



行政职业能力测验

真题及答案解析

(适用于公务员考试、选调生考试、事业单位考试、村官考试、三支一扶考试、军队文职考试、地方招警考试等公职类考试参考)



公众号名称: 厚职公考, 扫码关注获取更多真题和资料
厚职公考网 (www.houzhiwang.com) 整理提供



2019 年海南公务员考试行测真题及答案

2019 年海南公务员考试真题及答案 (行测)

第一部分 常识判断

1、下列选项释义错误的是:

- A. 骛: 性烈但跑得快的马
- B. 驯: 套有四匹马的车
- C. 驹: 小马、少壮的马
- D. 骥: 好马、千里马

2、下列关于我国脱贫攻坚工作说法准确的是:

- A. 强化行政一把手负总责的责任制
- B. 坚持先扶志, 再扶智, 后扶技的顺序
- C. 坚持中央统筹省负总责县抓落实的工作机制
- D. 动员全党全国全社会力量, 坚持精准扶贫, 精准脱贫

3、我国举办 2022 年北京冬奥会的理念是:

- A. 环保、公平、竞争、和谐
- B. 绿色、共享、开放、廉洁
- C. 生态、温暖、公平、实用
- D. 共享、友好、竞争、绿色

4、新形势下党的思想宣传工作的使命任务是:

- A. 举旗帜、聚民心、育新人、兴文化、展形象
- B. 树新风、育新德、兴产业、建形象、顺民心
- C. 聚民声、育思想、兴文化、树新风、富产业
- D. 聚民心、顺时代、树新风、讲美德、育新人

5、6 岁的小凡身高 1.05 米, 某日他瞒着父母独自去商场, 购买了一台价值 4000 元的平板电脑。当天, 其父母将一切完好的平板电脑带回商场要求退还全款。商场以“电子产品一经使用, 只换不退”为由拒绝。根据相关法律, 下列说法正确的是:

- A. 商场既不用退货退款, 也不用换货
- B. 商场做法正确, 电子产品只换不退
- C. 商场做法缺少法律依据, 应全额退款
- D. 商场应收取平板电脑原价 50% 的折旧费

6、下列最有可能不会受到治安管理处罚的是:

- A. 两人酒后打架斗殴, 但均未受伤, 酒醒后双方愿意和解
- B. 房东发现房客在出租房内开赌场却不告知管理部门, 反而提醒房客小心点



C. 小明饲养了一只属于禁养犬只的大型犬, 该犬性格温和从不咬人, 民警多次提醒, 小明仍然坚持饲养

D. 在某足球比赛中, 球迷不满“黑哨”, 扔啤酒罐砸向裁判, 但力度较轻, 裁判未受伤

7、下列关于钢表述错误的是:

A. 碳是其最重要的硬化元素, 所有钢材中都含碳元素

B. 钢按成分不同可分为低 C 钢、中 C 钢、高 C 钢

C. 钢是含 C 量在一定区间的铁碳合金

D. 生铁经过高温煅烧可成为钢

8、下列关于世界历史的说法正确的是:

A. “尼德兰革命”是世界上最早成功的资产阶级革命

B. 阿拉伯数字由古罗马人发明, 经阿拉伯人传入亚洲

C. 印度是亚洲耕地面积最大的国家, 其境内有阿拉伯河、恒河流经

D. 文艺复兴起源于英国, 后扩展到西欧各国, 与宗教改革、启蒙运动并称为西欧近代三大思想解放运动

9、国际男子足球比赛中, 人们常结合各国的历史、地理、文化等因素, 给予参赛队伍别称。下列国家与其别称对应不恰当的是:

A. 阿根廷: 潘帕斯雄鹰

B. 英格兰: 三狮军团

C. 意大利: 高卢雄鸡

D. 伊朗: 波斯铁骑

10、在日常生活中, 下列各项是影响食品腐败变质速度的因素, 其中最主要的因素是:

A. 食品自身的成分

B. 食品所含的水分

C. 储存食品的环境温度

D. 储存食品的环境湿度

第二部分 言语理解与表达

11、这些仅仅只是元素故事中的_____。每个元素都具有其独特的性质, 也各自拥有不同的发现故事。元素不仅被应用在生活的方方面面, 它们中的一些也是探索基础物理必不可少的。

填入划横线部分最恰当的一项是:

A. 冰山一角

B. 只言片语

C. 九牛一毛

D. 细枝末节



12、短期来看, 日趋激烈的竞争必将导致相应区域的主题公园_____; 而从中长期来看, _____了国内外主题公园精粹的集群区域将更有助于吸引来自国内外的增量客流, 这对身处其中的本土主题公园而言, 又是很好的机遇。

依次填入划横线部分最恰当的一项是:

- A. 此消彼长 会聚
- B. 弱肉强食 荟萃
- C. 优胜劣汰 聚集
- D. 物竞天择 融汇

13、有些海蚀洞的“天花板”上还有个大窟窿, 阳光照进来, 就像罗马的万神殿一样。这可能是因为顶部岩石本身质地脆弱, 更易被_____。也可能是海水挤入岩石裂隙时, 原本在里面的空气被压缩, 水填满洞隙下方, 压缩空气便_____洞顶, 直至将洞顶击穿, 形成天窗。

依次填入划横线部分最恰当的一项是:

- A. 腐蚀 入侵
- B. 侵蚀 冲击
- C. 侵袭 攻击
- D. 腐化 充盈

14、费孝通先生在《乡土中国》里有_____的阐释: 中国乡村秩序是从血缘关系和地缘关系开始的。此后时空流转, 纵使百转千回, 讨生活也好、讨理想也罢, 走出去的中国人, 还是会被故土的浓烈情思所牵绊。从这个意义上说, 过年回家, 大概是三件事: 一是省亲, _____思念之苦; 二是乡愁, 归于故土之亲; 三是仪式, _____精神传承。

依次填入划横线部分最恰当的一项是:

- A. 恰如其分 消除 感悟
- B. 一针见血 慰藉 濡染
- C. 高层建瓴 抚平 感服
- D. 鞭辟入里 解除 渲染

15、考古学研究要充分结合文献记载, 在历史时代考古学的研究中尤其如此。中国古代文献_____, 自当按各人的专业需求, 择要阅读。要紧的是必须懂得文献史、目录学等, 以便在繁多的古籍中寻取确切相关的记载, 加以_____。

依次填入划横线部分最恰当的一项是:

- A. 比比皆是 考察
- B. 恒河沙数 审核
- C. 汗牛充栋 查证
- D. 浩如烟海 考核

16、应该如何正确开展批评和自我批评呢? 要无私无畏, 敢于揭露问题。少数党员领导干部由于“老好人思想”作怪, 在专题民主生活会上, 往往选择对上级放“礼炮”, 对同级放“哑炮”, 对自己



放“空炮”。三言两语听上去_____，实际上_____、毫无价值，不但不能推动工作、维护党内团结，而且还会放任同志身上错误的滋长。

依次填入划横线部分最恰当的一项是：

- A. 春风化雨 无关痛痒
- B. 和颜悦色 扬汤止沸
- C. 和风细雨 隔靴搔痒
- D. 洋洋盈耳 无足轻重

17、有的人没有“专业性”观念，欣赏全才、通才，不重视乃至鄙视专业人才，以为只要悟“道”，就可以_____，什么问题都可以迎刃而解，什么领域都可以去坐而论道。这种观念在部分当代人文学者中仍然存在，科研工作者在他们眼中只是些关注细枝末节的技术员，不如他们掌握先进的哲学思想后，可以站得高看得远，乃至以科学导师自居，可以为科学的发展_____。

依次填入划横线部分最恰当的一项是：

- A. 触类旁通 运筹帷幄
- B. 融会贯通 指点迷津
- C. 见微知著 建言献策
- D. 举一反三 出谋划策

18、现在的唐宋古装电视剧中经常出现古人_____下跪的镜头，多是今人的凭空_____。据了解，从明朝开始，跪迎圣驾才成了国家制度。清承明制，下跪方日渐成为清朝人的“重要礼节”，打官司要跪，下级见上级要跪，地位低下的见尊贵的要跪。

依次填入划横线部分最恰当的一项是：

- A. 频繁 妄想
- B. 时常 假设
- C. 寻隙 杜撰
- D. 动辄 臆测

19、太阳能在地面上的利用率不高，因其会受到大气的吸收和散射，季节、昼夜更替的影响而_____很多，能量密度变化也很大，很不稳定，发展空间太阳能电站，可为地面提供商业化的、大规模的电力供给，解决人类长期对于稳定的可再生能源的需求问题。同时，空间太阳能电站的发展也将为更为长远的月球太阳能电站的发展_____基础。

依次填入划横线部分最恰当的一项是：

- A. 削弱 积累
- B. 缩小 打造
- C. 散逸 铸就
- D. 衰减 奠定

20、现在的诗词普及，还有许多需要留心和甄别的地方，如今市面上诗词普及的图书尤其多，也尤为_____。有不少普及读物，其中文字错漏百出，采用的故事也都是_____，甚至是杜撰而来。作



为读者, 应该加以甄别, 尽量选择学者编写的图书, 他们的材料、解读都较为严谨扎实, 采用的故事也都有正史作为依据。

依次填入划横线部分最恰当的一项是:

- A. 鱼目混珠 稗官野史
- B. 滥竽充数 逸闻轶事
- C. 鱼龙混杂 道听途说
- D. 龙蛇混杂 胡编乱造

21、求贤若渴, 首先就要有强烈的人才意识, 时时事事处处想到人才。把人才真正当作第一资源去____、去寻求、去开发。求贤若渴, 更要用贤若渴。人才作为一种特殊资源, 只有使用才能创造价值。要坚决____重引进轻使用的不良倾向, 牢固树立以用为本理念, 把用好用活人才作为人才工作重要责任。

依次填入划横线部分最恰当的一项是:

- A. 统筹 抵御
- B. 谋划 克服
- C. 挖掘 克制
- D. 利用 抵制

22、最近几年, 网红食品____。为了买到一杯奶茶、一块蛋糕, 人们愿意花上几个小时排队, 甚至出高价从“黄牛”手中拿货, 拿到美食后, 再拍照上传到社交平台“打卡”……这已经成为时下许多年轻人的饮食新时尚。但必须注意的是, 部分商家在追求利益的同时无视食品安全问题。一些网红食品借助网络平台隐蔽销售, _____于监管体系之外, 存在较大的安全隐患。

依次填入划横线部分最恰当的一项是:

- A. 方兴未艾 逃逸
- B. 炙手可热 隐匿
- C. 大行其道 游离
- D. 异军突起 飘游

23、有的摄影者对“后期”的重视几乎超过前期拍摄, 作品全都美得不行。当“美”_____的时候, 应该是有问题了。就像舞台上极为相似的明星一样, 迷信“后期”只会消除自我。这样的作品创作, 只是数量的_____而已, 创作者的个性被模糊了。

依次填入划横线部分最恰当的一项是:

- A. 千篇一律 叠加
- B. 俯仰可拾 堆砌
- C. 不胜枚举 积累
- D. 一成不变 提升

24、今天, 关于传统文化的书写, 存在两个极端: 要么过于通俗, 要么过于玄虚。中国传统文化的传播、国学的弘扬, 需要摆脱掉这两个极端, 走一条中间道路, 做到____、微言大义。虽然, “文



化热”“儒学热”“国学热”的浪潮_____，但真正将自己的文化看作安身立命之本的人却是_____。很多人对待文化，对待国学，仍然没有走出经世致用、急功近利的目的预设。

依次填入划横线部分最恰当的一项是：

- A. 深入浅出 此起彼伏 少之又少
- B. 大道至简 前仆后继 凤毛麟角
- C. 通俗易懂 如火如荼 寥寥无几
- D. 不温不火 不绝如缕 后继无人

25、松树当然是不同的。它们不落叶，无论冬夏，常给人绿色的遮蔽。那绿色十分古拙，不像有些绿色的鲜亮活跳。它们_____是有花的，_____不显著，最后结成松塔掉下来，带给人的是成熟的喜悦，_____不是凋谢的惆怅。

依次填入划横线部分最恰当的一项是：

- A. 却 虽 竟
- B. 虽 却 并
- C. 也 但 而
- D. 竟 但 却

26、梵净山虽被喀斯特地貌地区包围，却不是喀斯特地貌，而是特殊的变质岩山脉地貌，梵净山因此成为_____于喀斯特海洋中的变质岩“生态孤岛”，展现了独特的地质、生态、生物和景观特征。还原其形成，则要_____到14亿年前。当时的梵净山一带还是一片汪洋。之后，古陆漂移碰撞，火山岩浆迸发，一片火海中，梵净山_____。

依次填入划横线部分最恰当的一项是：

- A. 屹立 还原 粉墨登场
- B. 傲立 回归 拔地而起
- C. 伫立 追溯 横空出世
- D. 矗立 倒流 破土而出

27、年轻干部要想行得端、走得正，就必须涵养道德操守，明礼诚信，特别是要敢于讲真话、讲实话，切忌开“空头支票”，_____说好话、_____说套话、_____说大话、规避责任说假话。

依次填入划横线部分最恰当的一项是：

- A. 曲意逢迎 心口不一 不切实际
- B. 委曲求全 虚与委蛇 好高骛远
- C. 阿谀奉承 独善其身 好大喜功
- D. 投其所好 明哲保身 沽名钓誉

28、社会主要矛盾内涵的转化，表现为供给和需求两侧的结构都逐步发生变化。其实，几年前中央提出我国进入发展新常态，随后又提出供给侧结构性改革，就表明已经认识到社会主要矛盾内涵的变化，但并没有超越供给不能需求的总框架。而且应当认识到，党的十九大报告讲了主要矛盾的转化，而转化前后的主要矛盾不是相互排斥和对立的关系。“人民日益增长的美好生活需要和不平衡不充



分的发展之间的矛盾”是原有主要矛盾内涵的拓展与提高:“落后的生产”提升为“不平衡不充分的发展”,“人民日益增长的物质文化需要”提升为“人民日益增长的美好生活需要”。

接下来最可能讲述的是我国社会主要矛盾内涵转化的:

- A. 原因
- B. 动力
- C. 表现
- D. 机制

29、其实,大多数人都在沿着固有的一套路径和习惯生活,也就是“舒适区”,并且倾向于不打破它。特别是在互联网文化的影响下,人们更容易和持有相似观点的人抱团取暖,强化原有的认知方式,增强安全感。可生活的不确定因素那么多,在保持它的开放性的前提下顺其自然,才有更多的机会去拥抱美好的结局。因为你搞不清自己在什么节点会茅塞顿开,变成一个十分陌生但很开心的自己。

下列选项对这段文字理解正确的是:

- A. 打破“舒适区”,安享生活的不确定性,你会收获更多的快乐
- B. 摒除互联网文化影响,不与持相似观点的人抱团取暖,是让自己茅塞顿开的前提
- C. 承认并接受生活中的不确定因素,我们也许会因此改变成为一个自己都不认识的人
- D. 固守“舒适区”,与思想上的同类人“抱团”,执拗于原有习惯和安全感,等于拒绝了很多开放性的快乐

30、人工智能的数据垄断为反垄断理论提出了新的实践问题,换句话说,反垄断法的理论创新是一种现实的实践需求。具体而言,反垄断法的理论创新需求主要有以下几个方面:第一,双边市场理论。与单边市场相对应,经济学家所提出的双边市场理论,能够为多边性数据市场的反垄断执法提供有益思路。当前的双边市场理论,一方面需要关注实践动向进一步完善理论自身,另一方面需要探索双边市场理论如何转化为可供操作适用的反垄断法律法规。第二,相关市场理论。人工智能的数据反垄断,需要探讨单独界定“数据市场”的必要性和可行性,还需要正视传统相关市场界定工具在数据市场的无能为力,进而积极探索可替代性的分析工具。

接下来最可能讲述的是数据垄断的:

- A. 法律渊源
- B. 执法问题
- C. 立法问题
- D. 法律界定

31、金钱槭别名双轮果,是槭树科金钱槭属植物,生长于海拔 1000 至 2000 米的林边或疏林中,可高达 15 米,是我国特有植物。其叶对生,为奇数羽状复叶;初夏开白色花,雌雄同株,圆锥花序;果实分为两个小坚果,各于周围有广翅,外形如钱。由于林木乱砍滥伐,金钱槭成年植株极为稀少,加上天然更新能力较弱,很难长出幼树,它们像大熊猫一样需要保护。这段文字意在说明:

- A. 金钱槭如大熊猫般珍惜
- B. 亟需加大对金钱槭保护力度



- C. 环境破坏导致金钱槭极为稀少
- D. 天然更新能力不强导致金钱槭极为稀少

32、为什么狗睡觉是把嘴藏在前肢下面, 而猫睡觉是把耳朵挤在前肢下面? 动物用感觉器官来察觉周围环境变化, 并对不同变化产生不同反应。狗的嗅觉特别灵敏, 它靠嗅觉来识别一些物体, 军犬还依靠嗅觉来判断敌情和识别路径。对狗来说它的鼻子最宝贵, 所以当它睡觉时, 把嘴和鼻子用前肢藏起来保护好, 同时用鼻子警惕周围动静, 一旦有情况, 立即用鼻子来识别, 也可用狂叫来示威。猫的听觉特别灵敏, 它用听觉来察觉周围的变化。当它捕鼠时, 就用听觉来探知老鼠所在地点。对猫来说, 它的耳朵最宝贵。所以当它睡觉时, 把耳朵挤在前肢下面, 一方面把耳朵保护好, 另一方面把耳朵贴在地面, 一旦听到声音, 就可以立刻采取行动。进入人类家庭后, 猫狗也依旧保持着这样的睡姿。

以下各项, 对这段文字理解正确的是:

- A. 就听觉来说, 猫强于狗; 就嗅觉来说, 狗强于猫
- B. 猫狗睡姿不同, 从根本上说是因为它们对不同变化有不同的反应
- C. 猫狗的独特睡姿有利于时刻保持警觉和保护自己最宝贵的感觉器官
- D. 虽然进入人类家庭后不需要时刻保持警觉, 但猫狗仍保持着特别的睡姿

33、恒星的形成需要气体。在星团中, 由于大量气体会在星团形成早期被耗散掉, 星团一直以来被认为不能形成新的恒星。只有恒星之间的碰撞或者并合才有可能为年老的恒星补充燃烧物质。使它们看起来比其余的恒星更加年轻。通过碰撞或者并合形成的恒星被称作蓝离散星, 它们的名字来源于它们与绝大部分恒星相比截然不同的演化过程, 这使得它们游离在理论预言的演化轨迹之外。某研究团队利用观测数据, 对年轻星团 NGC2173 中的蓝离散星进行了研究, 首次在这个年轻星团中观测到了一族不同寻常的蓝离散星。根据发现, 这一星团包含着突然爆发形成的蓝离散星。

这段文字意在说明:

- A. 恒星的形成需要气体
- B. 星团中存在着不同寻常的蓝离散星
- C. 蓝离散星游离在理论预言的演化轨迹之外
- D. 通过碰撞或者并合形成的恒星被称作蓝离散星

34、垃圾填埋场是厌氧细菌的滋生地, 会产生大量甲烷。甲烷的温室效应比二氧化碳更强, 尽管可以将其捕捉并转化为能源, 但是即使最高效的回收系统, 仍有高达 10% 的甲烷发生逃逸。由于垃圾填埋场产生的甲烷大部分来自有机废弃物, 因此可以用更绿色的方式处理, 最简单的方法就是堆肥。实际上, 垃圾填埋场里三分之二的垃圾可以堆肥, 这就大大减少了甲烷的产量。由于堆肥过程中会产生高温、高压, 有机废弃物中的碳可能部分转化为二氧化碳和一氧化碳。所以我们可以考虑将这些有机物重新组合成液态燃料 (乙醇或甲醇), 或用作其他工业原料。

这段文字主要介绍了:

- A. 甲烷的温室效应比二氧化碳更甚
- B. 现阶段的甲烷回收系统对甲烷的捕捉利用依旧有限
- C. 用堆肥方式处理垃圾填埋场的垃圾能有效减少甲烷的生成



D. 堆肥这种垃圾处理方式需要将其生成的有机废弃物重新组合

35、多年生植物进入休眠期后, ①体内的生理代谢活动并未停止。②其营养物质、酶的活性和内源激素都在发生变化。③它们会在身体中积蓄起盐类物质和能变为糖的淀粉。④而盐类和含糖溶液有很强的抗寒能力。⑤有的植物还能增加体内不饱和脂肪酸或抗冻蛋白等。⑥它们能避免细胞内部结冰。⑦不同植物不同命。粗大的树木不怕冻可以用寒气不易侵入来解释; 那么, 细小的植物枝叶、娇嫩的蔬菜等不易冻死的主要原因就在于此。

这段文字最后一句中划线的“此”指代的是:

- A. ①⑦
- B. ②④
- C. ③⑤
- D. ④⑥

36、现在很多人对于甜味和吃糖感到排斥和恐惧, 因为他们很惧怕发胖, 吃一小块糖果就会胖一圈似的。其实, 真正使人发胖的并不是那一小块糖果, 而是每天吃的食物所包含的能量超出了消耗的能量。馒头、面条、米饭或者玉米面窝头中都有淀粉, 即不甜的糖。淀粉在人体内氧化所放出的热量与蔗糖基本上没有差别。要控制发胖, 主要在于控制摄入的总热量, 而不在于食物的口味是不是甜的。

最适合做这段文字的标题的是:

- A. 吃糖与发胖
- B. 淀粉与发胖
- C. 发胖的“真凶”
- D. 不发胖的“秘诀”

37、①2016年, 全世界共有 2.16 亿人患有疟疾, 其中 44.5 万人不幸死亡

②大约一周后, 等到雌蚊再次进食的时候, 疟原虫会随着它的唾液进入人类宿主体内, 到达受害者的肝脏和血液, 最终引发疾病甚至导致死亡

③疟原虫会在蚊子体内繁殖, 然后进入雌蚊的唾液腺

④疟蚊属的某些物种会携带引发疟疾的寄生虫——疟原虫

⑤雌蚊叮咬疟疾患者时 (为它们肚子里的卵储备营养), 可能会在这时染上这种寄生虫 (雄蚊不咬人)

⑥在蚊子传播的所有疾病中, 疟疾是最顽固、最致命的一种

将以上 6 个句子重新排列, 语序正确的是:

- A. ①⑥⑤④③②
- B. ⑥①④⑤③②
- C. ④①⑥⑤③②
- D. ⑤③②①④⑥

38、从抑郁到认知能力下降, 到心脏问题和中风, 越来越多的证据将孤独心理、生理疾病联系在了一起。在某些时刻, 我们都会感到“孤独”。对于我们中的大多数人来说, 孤独的感觉取决于我们的状



态以及如何看待它。孤独被定义为可以感知的社交隔离和与他人切断联系的经历。大多数经历孤独的人, _____, 比如找到新朋友或开始一段新恋情。研究人员也提到过一些“长期孤独”人群, 他们在一生中经历了沉重的孤独, 即便所处的环境或人际关系发生变化也无法改变他们孤独的感觉。

填入划横线部分最恰当的一项是:

- A. 只要改变心态, 就能改变感到孤独状态
- B. 只有改变心态, 才能改变感到孤独状态
- C. 通过改变心态, 可以改变感到孤独状态
- D. 即便改变心态, 也难改变感到孤独状态

39、①乡村的好家风越多, 乡村文明才有厚德的土壤

②同时, 好家风也能为更多人创造人生出彩的机会, 提升农村精神文明建设水平

③好家风是宝贵的精神财富, 不仅可以让仁义忠孝、尊老爱幼的家族文化和淳朴民风代代相传, 而且能有力强化乡风文明的“内核”

④传承弘扬优良家风是乡风文明建设的“牛鼻子”

⑤抓好家风传承与建设, 就是抓住了乡风文明的“牛鼻子”

⑥建设文明乡风, 不单是基础设施建设要跟上, 更要以注重家庭家教家风、弘扬优秀传统文化为抓手, 全面提升乡村文明素质

将以上 6 个句子重新排序, 语序正确的是:

- A. ⑥④①③②⑤
- B. ⑥④⑤③②①
- C. ④⑤③②①⑥
- D. ④⑥③②①⑤

第三部分 数量关系

40、某小学组织 6 个年级的学生外出参观包括 A 科技馆在内的 6 个科技馆, 每个年级任选一个科技馆参观, 则有且只有两个年级选择 A 科技馆的方案共有:

- A. 1800 种
- B. 18750 种
- C. 3800 种
- D. 9375 种

41、某技校在每月首日招收学员, 学习时限以月为周期, 每月首日为考核日, 考核通过即离校。每批学员学习 1 个月后, 在次月初考核通过的比例为 10%, 而学习 2 个月后, 仍未通过考核的占该批学员的 50%, 学习 3 个月后该批学员全部考核通过离校。如果从 3 月份起, 该技校开始招收学员且每个月招收 300 名学员, 则同年 7 月 2 日在该技校的学员有多少名?

- A. 540
- B. 600



C. 720

D. 810

42、某饮料厂生产的 A、B 两种饮料均需加入某添加剂, A 饮料每瓶需加该添加剂 4 克, B 饮料每瓶需加 3 克。已知 370 克该添加剂恰好生产了两种饮料共计 100 瓶, 则 A、B 两种饮料各生产了多少瓶?

A. 30、70

B. 40、60

C. 50、50

D. 70、30

43、现有 5 盒动画卡片, 各盒卡片张数分别为: 7、9、11、14、17。卡片按图案分为米老鼠、葫芦娃、喜洋洋、灰太狼 4 种, 每个盒内装的是同图案的卡片。已知米老鼠图案的卡片只有一盒, 而喜洋洋、灰太狼图案的卡片数之和比葫芦娃图案的多 1 倍, 那么图案为米老鼠的卡片的张数为?

A. 7

B. 9

C. 14

D. 17

44、某农户饲养有肉兔和宠物兔两种不同用途的兔子共计 2200 只, 所有兔子的毛色分为黑、白两种颜色。肉兔中有 87.5% 的毛色为黑色, 宠物兔有 23% 的毛色为白色。那么毛色为白色的肉兔至少有多少只?

A. 25

B. 50

C. 100

D. 200

45、A、B 两地各有一批相同数量的货物箱需由某运输队用卡车完成交换, 假设每辆卡车运送的货物箱数量相同, 运输队首先从 A 地出发, 中途 10 辆卡车因抛锚彻底退出这次运输, 使得其余车辆必须每车再多运 2 箱, 到达 B 地卸货后又有 15 辆卡车不返程, 参与返程的卡车每辆都需比出发时多装运 6 箱。那么两地共有货物多少箱?

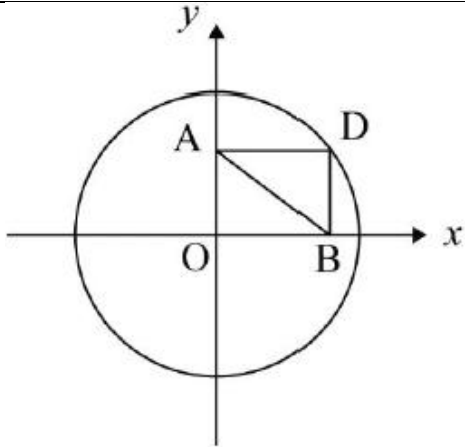
A. 2000

B. 1800

C. 3600

D. 4000

46、如图所示, 在一个半径为 6 米的圆形土地中, 有一块长方形花田 OBDA。据此可知, 从 A 点走到 B 点的直线距离为多少米?



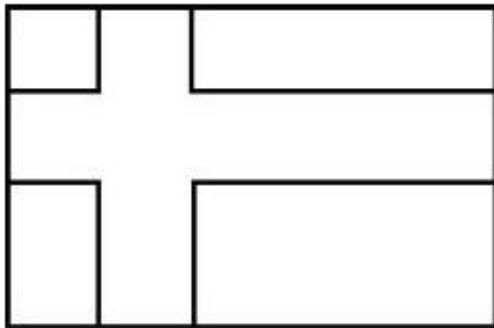
- A. 5.3
- B. 5.6
- C. 6
- D. 6.1

47、下列每行数字都呈现出一定的规律。依照此规律, 填入第四行括号处最恰当的一项是:

6	4	224
7	2	514
8	1	78
9	2	()

- A. 77
- B. 187
- C. 711
- D. 718

48、如右图所示, 在长为 64 米、宽为 40 米的长方形耕地上修建宽度相同的两条道路 (一条横向、一条纵向), 把耕地分为大小不等的四块耕地。已知, 修路后耕地总面积为 1377 平方米, 则该道路路面宽度为多少米?



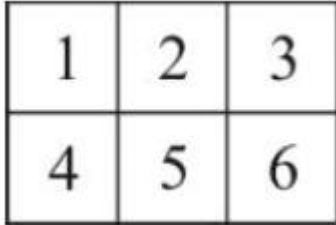
- A. 10
- B. 11



C. 12

D. 13

49、已知有 6 个大小相同, 标号分别为 1~6 的正方形。若旋转后正方形编号相同算同一种拼法, 那么要将这些木块拼成一个大长方形, 有多少种不同的拼法?



A. 360

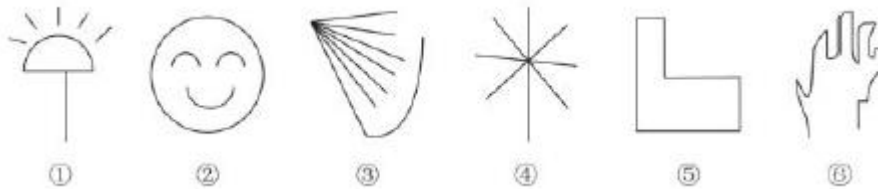
B. 540

C. 720

D. 900

第四部分 判断推理

50、根据下列图形规律将图形分组, 分组正确的是:



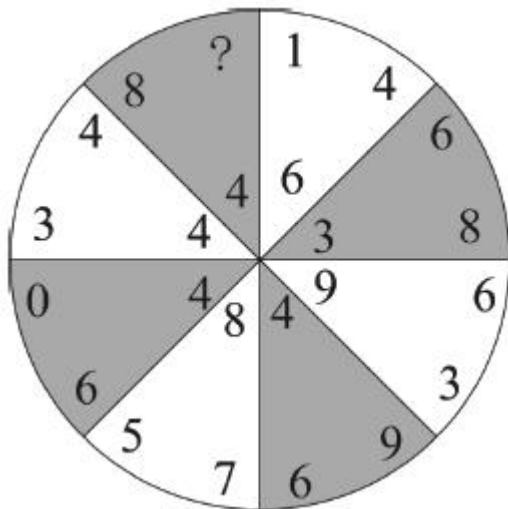
A. ②③⑤; ①④⑥

B. ①④⑤; ②③⑥

C. ①②④; ③⑤⑥

D. ①②⑤; ③④⑥

51、从所给的四个选项中, 选择最合适的一个填入问号处, 使之呈现一定的规律性:

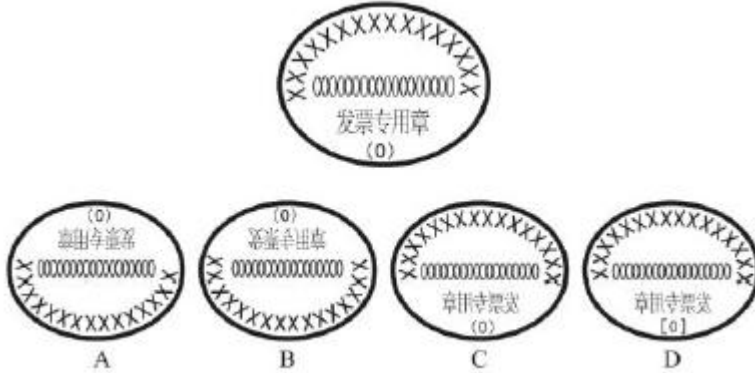


A. 1



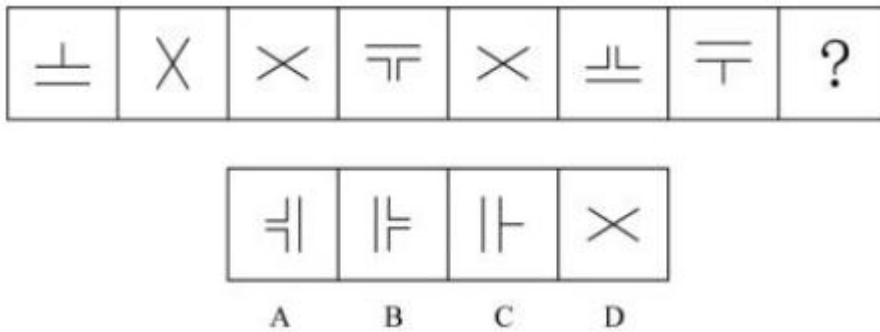
- B. 6
- C. 8
- D. 9

52、下列四个选项的图形中, 能由所给图形转动而成的是:



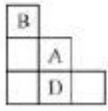
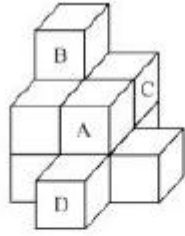
- A. 如上图所示
- B. 如上图所示
- C. 如上图所示
- D. 如上图所示

53、从所给的四个选项中, 选择最合适的一个填入问号处, 使之呈现一定的规律性:

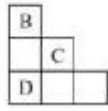


- A. 如上图所示
- B. 如上图所示
- C. 如上图所示
- D. 如上图所示

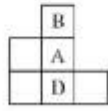
54、下列哪一项是题干所给图形的正面平视图?



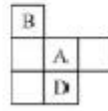
A



B



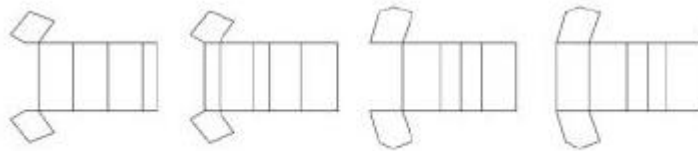
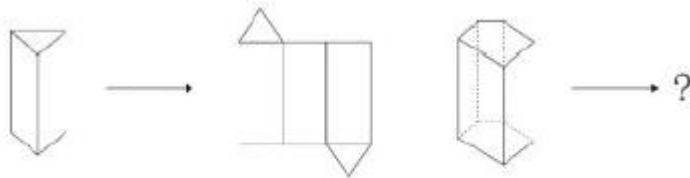
C



D

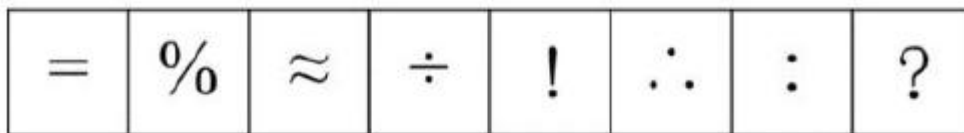
- A. 如上图所示
- B. 如上图所示
- C. 如上图所示
- D. 如上图所示

55、从所给的四个选项中, 选择最合适的一个填入问号处, 使之呈现一定的规律。



- A. 如上图所示
- B. 如上图所示
- C. 如上图所示
- D. 如上图所示

56、从所给的四个选项中, 选择最合适的一个填入问号处, 使之呈现一定的规律性:



- A. #
- B. ∴
- C. +
- D. ×



57、生态系统反服务是指随着受损的自然生态系统结构和功能在人类主动干预保护措施实施下, 逐步得到恢复的同时, 生态系统对人类日常生活和生产活动产生的负面影响。

根据上述定义, 下列不属于生态系统反服务的是:

- A. 城市干道种植的大量法国梧桐, 是诱发市民过敏性鼻炎的重要因素
- B. 某地动物保护工作开展以来, 猕猴数量剧增, 它们常骚扰当地居民
- C. 因禁止使用除草剂, 农民不得不投入更大的人力成本来拔掉杂草
- D. 某地修建水坝改善经济状况的同时, 也使一部分历史遗迹遭到破坏

58、确认偏差是指人一旦产生某个信念, 就会努力寻找与它相符的例子, 并无视那些不符的。

根据上述定义, 下列属于确认偏差的是:

- A. 小刚认为终有一天会天降横财, 便痴迷于彩票, 尽管从未中奖, 他还是整日游手好闲, 甚至贷款买彩票
- B. 小东听到某个所谓的“预言家”断定自己会遭遇车祸后时常感到担忧, 某天他突然发生车祸, 于是他更相信那位“预言家”了
- C. 尽管别人告诉小黄所有泡菜坛里的泡菜原料、泡制时间都一样, 但小黄仍认为用黄色泡坛里的泡菜烹饪鱼香肉丝会更可口
- D. 股票经理人告诉客户小明某股票会涨的同时又背着小明告诉其他客户该股票会跌, 结果该股票大涨, 从此小明对该经理人十分信任

59、团队学习行为是指团队成员为了满足团队和个人的发展需求, 在分享各自经验的基础上, 通过知识和信息交流等途径提出问题、寻求反馈、进行试验、反思结果、对失误或未预期结果进行讨论, 促进团队与个人知识或技能水平不断提高, 进而实现团队层面知识与技能相对持久变化。

根据上述定义, 下列属于团队学习行为的是:

- A. 某项目组为了在项目攻关阶段发挥团队的凝聚力和战斗力, 每周末都举行野外拓展训练
- B. 小王为了今后的发展, 在上班期间抽空和其他几位同事一起学习英语
- C. 为了获得奖学金, 某宿舍全体女生约定大家相互监督, 晚上一起自习
- D. 销售部为提高部门整体业绩, 推选优秀代表定期与大家分享销售经验

60、共享型领导指独立于组织正式的领导角色或层级结构, 由组织内部成员主动参与的、一种自下而上的成员之间相互领导的非正式领导力团队过程模式。它不仅强调传统垂直领导行为或角色在成员之间的共享, 如协作, 属于一种分布于成员之间的水平影响力。

根据上述定义, 下列属于共享型领导的是:

- A. 某高校辅导员新学期在某班级发起由全班同学轮流当班长的活动
- B. 在公司项目组项目设计的过程中, 小王主动承担了技术攻关任务
- C. 为提高服务质量和办事效率, 某部门将日常突发、应急事项从原来的几个科室流水处理, 改由专人负责
- D. 某研发部门为提高研发效率、发挥员工积极性而实行民主集中制, 由员工共同行使权力、承担责任、分享利益



61、家庭式迁移是指家庭成员以户为单位跟随主要生产要素离开原居住地迁往目标地的人口单向性流动现象。

根据上述定义, 下列属于家庭式迁移的是:

- A. 因工作调动, 小王夫妇举家迁往工作城市
- B. 老李夫妇常年在沿海城市打工, 只有春节才能回老家和家人团聚
- C. 老伴去世后, 老刘被在澳门工作的独生女儿接到当地一家养老机构安度晚年
- D. 老张一家结束多年的在外打工生活, 回乡定居一段时间后, 发现家乡适合搞养殖

62、顾客主动社会化是指顾客为了有效参与到服务过程而主动学习与其身份角色相关的知识和信息的过程。

根据上述定义, 下列属于顾客主动社会化的的是:

- A. 退休的张阿姨每天晚上收看电视养生节目学习养生
- B. 公司员工小刘为提高在某片区的销售业绩, 自学当地方言
- C. 小明的妈妈为帮助小明提高奥数成绩, 自己也报了奥数培训班
- D. 小谢不认同医生对他作出患有抑郁症的诊断, 上网搜了很多资料

63、公众科学是指在科学公开化与科学政策公开化的必要基础上, 公众直接参与科学知识产出过程。公共科学是指普通公众参与科学相关的科技政策审议、科学问题讨论以及科学成果转化等。

根据上述定义, 下列属于公众科学的是:

- A. 某调查公司就 5G 技术的商业前景在公共场所发放调查问卷
- B. 某手机公司研发部门就是否取消物理按键公开征询消费者意见
- C. 某医药公司为缩短研发的抗癌新药上市周期而招募试用志愿者
- D. 某医学伦理委员会就基因编辑的道德风险向科技工作者征询意见

64、头发：颜色：长度

- A. 狗：品种：性格
- B. 蔬菜：价格：营养
- C. 衣服：款式：尺码
- D. 人：长相：气质

65、嘈杂：环境安静

- A. 疲劳：驾驶安全
- B. 粗心：头脑清醒
- C. 迟缓：工作效率
- D. 温暖：抵御寒冬

66、设计：修建：高楼

- A. 痛恨：打击：仇敌
- B. 热爱：学习：书本
- C. 体检：判断：病人



D. 勘探: 开采: 石油

67、电影院: 观众: 观影

A. 广播: 听众: 主播

B. 医生: 病人: 问诊

C. 演唱会: 歌手: 演唱

D. 发布会: 记者: 提问

68、臭豆腐: 香菇

A. 热干面: 凉水

B. 黑芝麻: 白菜

C. 小麦: 大米

D. 甜菜: 苦瓜

69、法国某公园准备“聘请”一批乌鸦作为“保洁员”。但部分人也对这些“乌鸦保洁员”能否起到作用表示怀疑。

以下各项如果为真, 最能支持这部分人怀疑的是:

A. “乌鸦保洁员”可能引起人们的好奇, 导致公园游客剧增, 从而产生更多的垃圾

B. 据调查, 为了亲眼目睹“乌鸦保洁员”如何拾捡垃圾, 大部分游客有故意乱扔大量垃圾的倾向

C. 哪怕是经过训练的乌鸦, 也依然保留着乱衔树枝、小石头的本能, 而且饲养乌鸦本身也会产生垃圾

D. 经实验, 受训的“乌鸦保洁员”每天只能拾捡极其有限的重量轻、体积小的垃圾, 对公园的保洁作用几乎为零

70、某班分小组进行了摘草莓趣味比赛, 甲、乙、丙 3 人分属 3 个小组。3 人摘得的草莓数量情况如下: 甲和属于第 3 小组的那位摘得的数量不一样, 丙比属于第 1 小组的那位的摘得少, 3 人中第 3 小组的那位比乙摘得多。据此, 将 3 人按摘得的草莓数量从多到少排列, 正确的是:

A. 甲、乙、丙

B. 甲、丙、乙

C. 乙、甲、丙

D. 丙、甲、乙

71、人工智能无所不在地潜藏、萌发、产生和应用于人们生活的各个方面和各个角落, 凡有人类足迹和活动的地方, 都可能出现人工智能。人工智能似乎必然会与人产生激烈的竞争, 随后形成事实上出乎人的意志的结果——人工智能对人类造成威胁, 并可能最终战胜人。

以下各项如果为真, 最不能支持上述论证的是:

A. 人工智能可以发展出与人类完全冲突的自我意志

B. 会思考的人工智能机器可能会不断进化, 从而摆脱人类控制

C. 以人工智能为基础的机器人可代替人类从事探测、排爆等危险工作

D. 无成本的复制和持续的演化能力是人工智能相对于人类智能的优势



72、假设“如果张楠和林枫不是志愿者, 那么杨梅是志愿者”是前提, “林枫是志愿者”为结论。若要以上结论成立, 需要补充的前提是:

- A. 张楠是志愿者
- B. 杨梅不是志愿者
- C. 杨梅和张楠都是志愿者
- D. 杨梅和张楠都不是志愿者

73、随着网络技术、数字技术的发展, 人们的阅读方式、阅读途径更加多元化, 并且不断深化与拓展, 呈现出数字阅读的新态势。阅读本是一种极具个人风格的私事, 但在社交媒体环境中, 数字阅读成了一件能够与他人共享、交流的事情; 数字阅读的行为习惯、推广方式及平台等也都在发生变化。

以下各项如果为真, 最能支持上述论证的是:

- A. 统计显示, 去年实体书店的销量下降了 30%左右
- B. 数据显示, 去年电子书的购买率下降了 10%左右
- C. 数字阅读的“智能”元素改变了传统阅读的本质
- D. 社交媒体本身能为数字阅读找到更直接的分享对象

74、从理论上说, 如果不考虑其他因素, “体型大”和“寿命长”是动物容易罹患癌症最合理的两个答案。因为“体型大”意味着组成身体的细胞数量更多, 而“寿命长”意味着需要更多的新生细胞来更新换代; 细胞越多, 细胞分裂随机突变的几率就越高。

以下各项如果为真, 最能质疑上述论证的是:

- A. 小白鼠等寿命短的小动物易患癌症
- B. 人类因吸烟而导致患癌症风险上升
- C. 寿命长、体型庞大的象患癌症的概率很低
- D. 海牛与蹄兔是近亲, 体型相差悬殊, 却都不易患癌症

第五部分 资料分析

某水产公司共销售甲、乙、丙、丁四种鱼类产品。其在两个季度的销售额和销售量情况如下:

产品	销售额 (万元)		销售量 (公斤)	
	第一季度	第二季度	第一季度	第二季度
甲	200	235	100000	80000
乙	50	60	40000	60000
丙	60	70	40000	35000
丁	160	120	50000	48000



75、第二季度与第一季度相比, 四种鱼类产品销售情况的变化是:

- A. 销售总额增加, 销售总量增加
- B. 销售总额增加, 销售总量减少
- C. 销售总额减少, 销售总量增加
- D. 销售总额减少, 销售总量减少

76、在第二季度, 其销售额较上一季度增长最快的是:

- A. 甲
- B. 乙
- C. 丙
- D. 丁

77、在第二季度, 其销售价格较上一季度涨幅最大的是:

- A. 甲
- B. 乙
- C. 丙
- D. 丁

78、在第二季度, 乙和丙的销售额都比第一季度增加了 10 万元, 描述其产品销售额变动情况正确的是:

- A. 乙产品销售量增加和价格上涨都导致销售额增加
- B. 丙产品销售量增加和价格上涨都导致销售额增加
- C. 乙产品销售量的增加抵消了价格下降的不利影响
- D. 丙产品销售量的增加抵消了价格下降的不利影响

79、根据上述资料, 下列说法正确的是:

- A. 第二季度, 水产公司鱼产品单位公斤价格较上季度上涨
- B. 甲销量下滑的主要原因是其价格上涨
- C. 乙是四类鱼产品中唯一降价的产品
- D. 水产公司的鱼类产品利润提高

某机械加工企业下设四个生产车间生产加工同种类型和型号的产品, 并以人均产量评价劳动生产率。

80、本车间中中级工占比最大的是:

- A. 甲
- B. 乙
- C. 丙
- D. 丁

81、高级工劳动生产率最高的车间是:

- A. 甲



- B. 乙
- C. 丙
- D. 丁

82、车间劳动生产率从高到低依次排列正确的是:

- A. 甲>乙>丙>丁
- B. 乙>甲>丙>丁
- C. 丙>丁>乙>甲
- D. 丁>乙>丙>甲

83、同车间中, 初级工较高级工劳动率差距最小的是:

- A. 甲
- B. 乙
- C. 丙
- D. 丁

84、根据资料, 下列说法正确的是:

- A. 车间总产量占企业总产量比重最大的是甲车间
- B. 按工人级别来分, 劳动生产率最高的是中级工
- C. 该企业最应当加强对丁车间人工的劳动生产率培训
- D. 只有丙车间的劳动生产率低于所在企业的平均劳动生产率

2016 年全国供用水总量为 6040.2 亿立方米, 较上年减少 63.0 亿立方米。其中, 地表水源供水量 4912.4 亿立方米, 占供水总量的 81.3%; 地下水源供水量 1057.0 亿立方米, 占供水总量的 17.5%; 其他水源供水量 70.8 亿立方米, 占供水总量的 1.2%。与 2015 年相比, 地表水源供水量减少 57.1 亿立方米, 地下水源供水量减少 12.2 亿立方米, 其他水源供水量增加 6.3 亿立方米。

2016 年, 全国生活用水 821.6 亿立方米, 占用水总量的 13.6%; 工业用水 1308.0 亿立方米, 占用水总量的 21.6%; 农业用水 3768.0 亿立方米, 占用水总量的 62.4%; 人工生态环境补水 142.6 亿立方米, 占用水总量的 2.4%。与 2015 年相比, 农业用水量减少 84.2 亿立方米, 生活用水量及人工生态环境补水量分别增加 28.1 亿立方米和 19.9 亿立方米。

2016 年全国万元国内生产总值 (当年价) 用水量 81 立方米, 万元工业增加值 (当年价) 用水量 52.8 立方米, 农田灌溉水有效利用系数 0.542。按可比价计算, 万元国内生产总值用水量和万元工业增加值用水量分别比 2015 年下降 7.2% 和 7.6%。

注: 供用水总量=用水总量=生活用水+工业用水+农业用水+人工生态环境补水

85、2015 年全国供用水总量为:

- A. 6040.2 亿立方米
- B. 6103.2 亿立方米
- C. 5977.2 亿立方米
- D. 1057.2 亿立方米



86、下列选项中, 占 2016 年全国用水总量比重最大的是:

- A. 生活用水
- B. 工业用水
- C. 农业用水
- D. 人工生态环境补水

87、与上一年相比, 2016 年用水量减少的两大领域是:

- A. 生活用水和农业用水
- B. 工业用水和农业用水
- C. 农业用水和人工生态环境补水
- D. 人工生态环境补水和生活用水

88、2015 年, 我国万元国内生产总值用水量和万元工业增加值用水量之比约为:

- A. 3 : 2
- B. 4 : 3
- C. 5 : 3
- D. 2 : 1

89、下列说法正确的是:

- A. 2016 年, 农业用水产值低于工业用水产值
- B. 2016 年, 我国三大产业水资源利用率均有所提高
- C. 2016 年, 供水减少的主要原因是地下水源供水减少
- D. 2016 年, 其他水源供水量占供水总量比重较上年提升

参考答案及解析

1. 正确答案: A

解析

第一步, 本题考查语言文字并选错误项。

第二步, 驽, 指劣马, 走不快的马。例如: 驽马十驾, 功在不舍 (比喻愚钝的人只要不断努力, 也能有成就)。

因此, 选择 A 选项。

B 项: 驷, 古代同驾一辆车的四匹马, 或套着四匹马的车。例如, 一言既出, 驷马难追 (比喻话说出后无法再收回, 说话要算数)。故 B 选项正确。

C 项: 驹指小马, 少壮的马。例如, 白驹过隙 (像小白马在细小的缝隙前跑过一样。形容时间过得极快)。故 C 选项正确。

D 项: 骥指好马, 千里马。例如, 骥骥一跃, 不能十步 (千里马的一跃, 却还不到十步)。故 D 选项正确。确。

2. 正确答案: D

解析



第一步, 本题考查我国脱贫攻坚工作相关知识。

第二步, 2017年10月18日, 习近平同志在十九大报告中指出, 坚决打赢脱贫攻坚战。要动员全党全国全社会力量, 坚持精准扶贫、精准脱贫。

因此, 选择D选项。

A项: 2017年10月18日, 习近平同志在十九大报告中指出, 坚决打赢脱贫攻坚战, 要强化党政一把手负总责的责任制。

B项: 2017年10月18日, 习近平同志在十九大报告中指出, 坚决打赢脱贫攻坚战, 要坚持大扶贫格局, 注重扶贫同扶志、扶智相结合, 深入实施东西部扶贫协作, 重点攻克深度贫困地区脱贫任务。

C项: 2017年10月18日, 习近平同志在十九大报告中指出, 坚决打赢脱贫攻坚战, 要坚持中央统筹省负总责市县抓落实的工作机制。

3. 正确答案: B

解析

第一步, 本题考查北京冬奥会的理念。

第二步, 2015年8月20日, 习近平主持召开中共中央政治局常委会会议, 专题听取申办冬奥会情况汇报, 研究筹办工作, 提出了坚持绿色办奥、共享办奥、开放办奥、廉洁办奥的要求。

因此, 选择B选项。

2022年北京冬季奥运会将在2022年2月4日至2022年2月20日在北京市和河北省张家口市联合举行, 这是中国历史上第一次举办冬季奥运会。此次冬奥会的开幕式和闭幕式都将在鸟巢内举行。北京2022年冬奥会会徽是“冬梦”, 冬残奥会会徽是“飞跃”, 其吉祥物计划于2019年下半年适时发布。

4. 正确答案: A

解析

第一步, 本题考查时政。

第二步, 2018年8月21日至22日全国宣传思想工作会议在北京召开。中共中央总书记、国家主席、中央军委主席习近平提出新形势下宣传思想工作使命任务: 举旗帜、聚民心、育新人、兴文化、展形象。

因此, 选择A选项。

举旗帜, 就是要高举马克思主义、中国特色社会主义的旗帜, 坚持不懈用新时代中国特色社会主义思想武装全党、教育人民、推动工作, 在学懂弄通做实上下功夫, 推动当代中国马克思主义、21世纪马克思主义深入人心、落地生根。

聚民心, 就是要牢牢把握正确舆论导向, 唱响主旋律, 壮大正能量, 做大做强主流思想舆论, 把全党全国人民士气鼓舞起来、精神振奋起来, 朝着党中央确定的宏伟目标团结一心向前进。

育新人, 就是要坚持立德树人、以文化人, 建设社会主义精神文明、培育和践行社会主义核心价值观, 提高人民思想觉悟、道德水准、文明素养, 培养能够担当民族复兴大任的时代新人。

兴文化, 就是要坚持中国特色社会主义文化发展道路, 推动中华优秀传统文化创造性转化、创新性发展, 继承革命文化, 发展社会主义先进文化, 激发全民族文化创新创造活力, 建设社会主义文化强



国。展形象, 就是要推进国际传播能力建设, 讲好中国故事、传播好中国声音, 向世界展现真实、立体、全面的中国, 提高国家文化软实力和中华文化影响力。

5. 正确答案: C

解析

第一步, 本题考查民法。

第二步, 《民法总则》第 20 条规定, 不满八周岁的未成年人为无民事行为能力人, 由其法定代理人代理实施民事法律行为。第 144 条规定, 无民事行为能力人实施的民事法律行为无效。第 157 条规定, 民事法律行为无效、被撤销或者确定不发生效力后, 行为人因该行为取得的财产, 应当予以返还; 不能返还或者没有必要返还的, 应当折价补偿。有过错的一方应当赔偿对方由此所受到的损失; 各方都有过错的, 应当各自承担相应的责任。法律另有规定的, 依照其规定。题干中 6 岁的小凡为无民事行为能力人, 其父母将完好无损的平板电脑带回商场, 要求退还全款的权利主张符合法律依据, 而商场的做法缺乏法律依据, 应全额退款。

因此, 选择 C 选项。

A 项: 《合同法》第 56 条规定, 无效的合同或者被撤销的合同自始没有法律约束力。第 58 条规定, 合同无效或者被撤销后, 因该合同取得的财产, 应当予以返还; 不能返还或者没有必要返还的, 应当折价补偿。商场做法错误。

B 项: 依据《合同法》第 56 条和第 58 条的规定, 对于无效的合同, 自始没有法律效力, 且因该合同取得的财产应当予以返还, 商场以“电子产品一经使用, 只换不退”的做法错误。

D 项: 《合同法》第 58 条规定, 合同无效或者被撤销后, 因该合同取得的财产, 应当予以返还; 不能返还或者没有必要返还的, 应当折价补偿。小凡父母当天将完好无损的平板电脑带回商场, 依据法律规定, 商场应全额退款, 不应收取折旧费。

6. 正确答案: A

解析

第一步, 本题考查治安管理处罚法。

第二步, 《治安管理处罚法》第 9 条规定, 对于因民间纠纷引起的打架斗殴或者损毁他人财物等违反治安管理行为, 情节较轻的, 公安机关可以调解处理。经公安机关调解, 当事人达成协议的, 不予处罚。经调解未达成协议或者达成协议后不履行的, 公安机关应当依照本法的规定对违反治安管理行为人给予处罚, 并告知当事人可以就民事争议依法向人民法院提起民事诉讼。两人双方均未受伤且双方愿意和解, 和解后可以不予处罚。

因此, 选择 A 选项。

B 项: 《治安管理处罚法》第 57 条规定, 房屋出租人明知承租人利用出租房屋进行犯罪活动, 不向公安机关报告的, 处二百元以上五百元以下罚款; 情节严重的, 处五日以下拘留, 可以并处五百元以下罚款。本题中, 房东明知道房客开赌场, 却不告知公安机关, 处二百元以上五百元以下罚款。



C项:《治安管理处罚法》第75条规定,饲养动物,干扰他人正常生活的,处警告;警告后不改正的,或者放任动物恐吓他人的,处二百元以上五百元以下罚款。小明饲养大型犬,属于禁止饲养犬类,即使温和从不咬人,仍然存在潜在威胁,并且民警多次警告,拒不听从,可以对他进行处罚。

D项:《治安管理处罚法》第24条规定,有下列行为之一,扰乱文化、体育等大型群众性活动秩序的,处警告或者二百元以下罚款;情节严重的,处五日以上十日以下拘留,可以并处五百元以下罚款:(一)强行进入场内的;(二)违反规定,在场内燃放烟花爆竹或者其他物品的;(三)展示侮辱性标语、条幅等物品的;(四)围攻裁判员、运动员或者其他工作人员的;(五)向场内投掷杂物,不听制止的;(六)扰乱大型群众性活动秩序的其他行为。因扰乱体育比赛秩序被处以拘留处罚的,可以同时责令其十二个月内不得进入体育场馆观看同类比赛;违反规定进入体育场馆的,强行带离现场。本题中,球迷扔啤酒罐砸向裁判,属于向场内投掷杂物,应该受到治安管理处罚。

7. 正确答案: B

解析

第一步, 本题考查化学常识并选错误项。

第二步, 钢根据碳含量高低可以分为低碳钢、中碳钢和高碳钢, 而不是按照成分不同所作的分类。其中低碳钢, 碳含量一般低于 0.25% (质量分数); 中碳钢, 碳含量一般为 0.25%–0.60% (质量分数); 高碳钢, 碳含量一般高于 0.60% (质量分数)。

因此, 选择 B 选项。

A 项: 碳存在于所有的钢材, 是最重要的硬化元素, 有助于增加钢材的强度。

C 项: 钢是含碳量百分比介于 0.02%至 2.11%之间的铁碳合金。

D 项: 生铁中的含碳量比钢高 (生铁碳含量为 2%–4.3%), 生铁经过高温煅烧, 其中的碳和氧气反应生成二氧化碳, 由此降低铁中的含碳量, 就成了钢。

8. 正确答案: A

解析

第一步, 本题考查世界史。

第二步, 1566 年, 尼德兰 (即荷兰) 爆发了反对西班牙统治的人民起义, 历史上称作尼德兰革命。尼德兰革命是历史上第一次成功的资产阶级革命。这次革命是通过民族解放战争的形式完成的, 革命后建立了资产阶级共和国。A 项表述正确。

因此, 选择 A 选项。

B 项: 公元 500 年前, 阿拉伯数字最初由古印度人发明, 后由阿拉伯人传向欧洲, 之后再经欧洲人将其现代化, 人们以为是阿拉伯人发明的, 所以称其为“阿拉伯数字”。阿拉伯数字传入我国大约是 13 到 14 世纪。B 项说法错误。

C 项: 印度的耕地面积很广, 约为 1.6 亿公顷, 是亚洲耕地面积最大的国家, 也是世界耕地面积排名第一的国家。阿拉伯河是伊拉克东南部的河流, 由底格里斯和幼发拉底两河汇流而成, 流向东南, 注入波斯湾。恒河发源于喜马拉雅山南麓, 流经印度、孟加拉国, 最后注入孟加拉湾。C 项说法错误。



D 项: 文艺复兴是指发生在 14 世纪到 16 世纪的一场反映新兴资产阶级要求的欧洲思想文化运动。文艺复兴最先在意大利各城市兴起, 以后扩展到西欧各国, 于 16 世纪达到顶峰, 揭开了近代欧洲历史的序幕。文艺复兴、宗教改革、启蒙运动是西欧近代三大思想解放运动。D 项说法错误。

9. 正确答案: C



解析

第一步, 本题考查体育常识并选错误项。

第二步, 意大利队对应的是“蓝衣军团”, 意大利队穿的主场球衣以蓝色调为主, 故称为“蓝衣军团”。法国队对应的是“高卢雄鸡”, 高卢是法国的古称。“高卢雄鸡”是法国第一共和国时代国旗上的标志, 是当时法国人民革命意识的象征。从二十世纪八十年代起, “高卢雄鸡”被当作法国足球队和橄榄球队的标志。本项对应错误。

因此, 选择 C 选项。

A 项: 阿根廷, 南美足球强国, 号称“潘帕斯雄鹰”, 潘帕斯是阿根廷最大的一个草原, 那里有一种雄鹰, 十分凶猛, 在草原上空盘旋, 阿根廷队被称为潘帕斯雄鹰, 说明它的强大及超强实力, 本项对应正确。

B 项: 英格兰足球队被称为“三狮军团”, 是因为英格兰队徽上有三只蓝色的狮子, 显示英格兰国家队年轻的斗士像狮子一样爪牙犀利、充满野性, 本项对应正确。



D 项: 伊朗古代为波斯国古地, 波斯居鲁士大帝一度建立强大的波斯帝国, 国家横跨亚欧非, 但伊斯兰教兴起后, 波斯帝国被阿拉伯帝国征服, 逐渐伊斯兰化。现在称伊朗国家男子足球队为“波斯铁骑”是沿用了波斯古称, 本项对应正确。

10. 正确答案: C,

解析

第一步, 本题考查食品知识。

第二步, 食品腐败变质是指食品在一定环境因素影响下, 由微生物的作用而引起食品成分和感官性状发生改变, 并失去食用价值的一种变化。储存食品的环境温度是影响食品腐败变质速度的主要原因, 温度升高能加速食品的腐败变质(化学反应及微生物生长发育速度加快), 动植物食品本身含有各种酶, 在适宜的温度下酶类活性增强, 使食品发生各种改变。

因此, 选择 C 选项。

11. 正确答案: A

解析

第一步, 分析语境。根据“每个元素都具有其独特的性质”, “各自拥有不同的发现故事”可知, 前面“这些”代指的元素故事只是其中很少的一部分, 各元素的性质独特, 各自都有发现故事, 证明元素故事能说的还有很多。因此确定选一个表示“暴露出来的只是事物的一小部分”的含义。

第二步, 辨析选项。A 项“冰山一角”指所暴露出来的只是事物的一小部分。符合题意。B 项“只言片语”指个别词句或片断的话, 文段不是想说故事中的个别词语或片段, “这些”代指的内容是独立完整的, 只不过“这些”之外的内容更多; C 项“九牛一毛”意思是这九头牛身上的一根毛, 比喻渺小、轻微, 词语重在强调“微不足道”, 和语境不符; D 项“细枝末节”比喻事情或问题的细小而无紧要的部分, 文段没有提及“这些”代指的内容的重要程度。故 B 项、C 项和 D 项均与题意不符, 排除三者。因此, 选择 A 选项。

12. 正确答案: C

解析

第一步, 分析第一空。根据“导致”可知前后为因果关系, 因和果互为提示, 因果语义相关, 根据“日趋激烈的竞争”提示, 该空应体现出“你死我亡”的激烈竞争结果。A 项“此消彼长”指这个下降, 那个上升, 体现不出竞争的意思, 排除 A 项; B 项“弱肉强食”比喻弱的被强的吞并, 文段中并没有体现



出“一方将另一方吞并”的含义, 排除 B 项; D 项“物竞天择”侧重强调自然的选择, 不符和文意, 排除 D 项; C 项“优胜劣汰”指优的得以胜出, 劣的将被淘汰, 比喻生物在生存竞争中适应力强的保存下来, 适应力差的被淘汰, 符合“竞争”的提示。答案锁定 C 选项。

第二步, 验证第二空。“聚集”指集合, 凑在一起, 与“精粹”搭配得当, 符合文意。

因此, 选择 C 选项。

13. 正确答案: B

解析

第一步, 分析第一空。由“因为顶部岩石本身质地脆弱”可知, 该空应与“岩石”搭配, 表达更易被“损坏”的意思。C 项“侵袭”指侵入袭击或侵扰袭击, 多指受到敌人的侵袭, 不能与“岩石”搭配, 排除 C 项。D 项“腐化”指有机体腐烂, 借喻思想行为变坏, 不能与“岩石”搭配, 排除 D 项。

第二步, 分析第二空。由“直至将洞顶击穿”可知, 该空所填之词与“击穿”对应, 体现“攻击、撞击”的意思。A 项“入侵”指(敌军)侵入国境, 或(外来的或有害的事物)进入内部, 意思不符合文意, 排除 A 项。B 项“冲击”指强大的水流或其他力量迅猛撞击, 符合文意。

因此, 选择 B 选项。

14. 正确答案: B

解析

第一步, 分析第一空。该空所填词语修饰费孝通先生的阐释, 要表达的是阐释“清晰透彻”, 因为后文透彻明确地点破了中国乡村秩序的本质。A 项“恰如其分”指办事或说话正合分寸, 侧重“合适”; C 项“高屋建瓴”比喻居高临下, 不可阻遏的形势, 现指对事物把握全面, 了解透彻, 有全局性思维, 该词侧重于“全局性”。二者均无法体现“透彻”, 不符合语境, 排除 A 项和 C 项。B 项“一针见血”比喻说话直截了当, 切中要害; D 项“鞭辟入里”形容做学问切实, 也形容分析透彻, 切中要害。二者均符合文意。

第二步, 分析第三空。该空所填词语搭配“精神传承”。B 项“濡染”指沾染, 受熏陶, 通过仪式的举办让后人感受精神的传承, 符合文意。D 项“渲染”原意是国画的一种画法, 用水墨或淡的色彩涂抹画面, 以加强艺术效果, 也可以比喻夸大的形容或烘托之意, 语义不符合语境, 排除 D 项。答案锁定 B 选项。

第三步, 验证第二空。“慰藉”指安慰, 抚慰, “慰藉思念之苦”搭配合适且符合文意。

因此, 选择 B 选项。

15. 正确答案: D

统计答题时间: 1 秒, 全站正确率: 12%, 易错项: C。

解析第一步, 分析第一空。根据“自当按各人的专业需求, 择要阅读”可知, 所填的词语说明古代文献多。A 项“比比皆是”指到处都是, 形容极其常见, 该成语不能形容文献多, 排除 A 项。B 项“恒河沙数”指像恒河里的沙粒一样, 无法计算, 该成语也不能形容文献多, 排除 B 项。C 项“汗牛充栋”形容藏书很多, 该成语不是形容文献多, 排除 C 项。D 项“浩如烟海”形容文献、资料等非常丰富, 符合语境。答案锁定 D 选项。



第二步, 验证第二空。“考核”指考查审核, 代入第二空, 说明在繁多的古籍中寻求确切相关的记载来考查审核文献史、目录学, 语义明确。

因此, 选择 D 选项。

16. 正确答案: C

解析

第一步, 分析第一空。根据“实际上”表转折, 前后语义相反可知, 第一空要与“毫无价值”意思相反, 体现“有价值, 有用”的意思。A 项“春分化雨”指适宜于草木生长的风雨, 比喻良好的熏陶和教育, 语义不符, 排除 A 项; B 项“和颜悦色”意思是和蔼喜悦的神色, 和蔼可亲的面色, 形容人开心, 语义不符, 排除 B 项。

第二步, 分析第二空。根据“、”的提示, 第二空与“毫无价值”语义相近, 应该是没有起作用的意思。D 项“无足轻重”侧重强调不重要, 不符合文意, 排除 D 项。C 项“隔靴搔痒”指隔着靴子挠痒痒, 比喻做事没有抓住关键, 不解决问题, 徒劳无功, 符合文意。

因此, 选择 C 选项。

17. 正确答案: B

解析

第一步, 分析第一空。根据“中国历来没有‘专业性’观念, 欣赏全才、通才”可知, 此处应体现知识之间有联系, 无明显界限之意。C 项“见微知著”指见到事情的苗头, 就能知道它的实质和发展趋势, 有以小见大之意。不符合语境, 排除 C 项。

第二步, 分析第二空。根据“以科学导师自居”可知, 导师对科学发展有指引之意, 该空应体现“指引”之意。A 项“运筹帷幄”侧重在后方做出全面计划, 无指引之意, 排除 A 项; D 项“出谋划策”指制定计划谋略, 给别人出主意, 并无指引之意, 排除 D 项; B 项“指点迷津”指针对事物的困难处, 提供解决的方向、办法或途径, 有指引之意, 符合文意。

因此, 选择 B 选项。

18. 正确答案: D

解析

第一步, 分析第一空。根据语境可知, 现在的唐宋古装电视剧中古人下跪的镜头经常出现, 比较多。A 项“频繁”指次数多的; D 项“动辄”指动不动就。二者均符合语境。B 项“时常”指经常, 与前文“经常”重复, 排除 B 项。C 项“寻隙”指找茬儿, 寻衅, 不符合语境, 排除 C 项。

第二步, 分析第二空。“多是今人的凭空_____”。A 项“妄想”指狂妄地打算或不能实现的非分之想, 不符合语境, 排除 A 项。D 项“臆测”指主观地推测、猜测、凭想象揣测, 符合语境。

因此, 选择 D 选项。

19. 正确答案: D

解析第一步, 突破口在第二空。本空搭配“基础”。A 项“积累”指为了将来发展的需要, 逐渐聚集起有用的东西, 使之慢慢增长, 完善, 一般搭配“金钱、知识、经验”等, 通常不与“基础”搭配。B 项“打造”指制造、创造。进行打造的可以是具体的事物, 如金银、首饰、兵器等, 也可以是抽象的概



念, 如精神、文化、品牌等。“打造”一词着力突显人们创造事物的决心、对事物品质的关注以及所采用的制造方式的力度。通常不与“基础”搭配。C项“铸就”指把熔化的金属倒入特制的模子里, 也指塑造人的性格或脾气, 通常不与“基础”搭配。故排除A项、B项和C项。D项“奠定”指建立; 安置使稳固; 使稳固; 使安定; 为……作基础。通常与“基础”是固定搭配。答案锁定D选项。

第二步, 验证第一空。根据“太阳能在地面的利用率不高, 其会因大气的汲取和散射, 以及云雨、季节、昼夜更替的阻碍而”可知, 本空应该指太阳能受这些因素的影响而出现的结果, 且对应“利用率不高”, 填入“衰减”是正确的。

因此, 选择D选项。

20. 正确答案: C

解析

第一步, 分析第一空。根据前文语境“诗词普及还需要很多留心 and 甄别的地方”可分析出目前诗词读物存在好坏掺杂的情况。A项“鱼目混珠”指用假的冒充真的。而文段侧重是以次充好, 故排除A项。B项“滥竽充数”指无本领的冒充有本领的, 次货冒充好货。侧重以次充好, 与文段好的坏的混一起的语境不符, 故排除B项。C项“鱼龙混杂”指好的坏的混一起, 符合文意。D项“龙蛇混杂”也指好的坏的混一起。符合文意。

第二步, 分析第二空。根据“甚至是杜撰而来”可知, 本空与“杜撰”是递进关系, 应选择语义程度轻于“杜撰”且感情色彩一致的选项。C项“道听途说”泛指没有根据的传闻。符合文意。D项“胡编乱造”指没有根据、不合情理地胡乱编造。语义过重, 无法与递进后的“杜撰”形成递进关系, 故排除D项。

因此, 选择C选项。

21. 正确答案: B

统计答题时间: 1秒, 全站正确率: 13%, 易错项: D。

解析第一步, 分析第一空。根据第一空后表示并列关系的顿号以及“去寻求、去开发”, 可知要填入的内容与“寻求”、“开发”为并列关系, 填入的词语有寻找、开发人才资源的意思, B项“谋划”意为试图找到解决办法, C项“挖掘”意为深入开发, 探求, 均符合文意。A项“统筹”意为通盘筹划, 统一安排, D项“利用”意为发挥效用, 二者均没有寻找开发人才资源的意思, 故排除A项、D项。

第二步, 分析第二空。根据“坚决_____重引进轻使用的不良倾向”, 可知文意为要纠正“重引进轻使用”的这一错误思想, 且第二空要填入词语修饰“倾向”, B项“克服”意为用意志和力量去战胜, 符合语义。C项“克制”多指控制、抑制自己的情感, 不符合语境, 排除C项。

因此, 选择B选项。

22. 正确答案: C

解析

第一步, 分析第一空。空格后面说到为了买到一杯奶茶、一块蛋糕, 人们愿意花上几个小时排队, 甚至出高价从“黄牛”手中拿货, 可知第一空想突出网红食品很火热, 大家都喜欢, 但这种趋势需要我们注意的是一些网红食品借助网络平台隐蔽销售, 无视食品安全, 可见作者对网红食品感情色彩偏消极。C项



“大行其道”原指某种学术、道术正在盛行、流行, 现指某种新潮事物流行、盛行, 成为一种风尚。一般用作贬义词, 符合语境。B项“炙手可热”比喻权势很大, 气焰很盛, 使人不敢接近, 是贬义词但不能用来说网红食品, 因此排除B项。A项“方兴未艾”形容事物正在蓬勃发展, 一时不会终止。该词更多是为体现事物发展的趋势。文段没有语境体现网红食品未来发展方向, 因此排除A项。

第二步, 分析第二空。D项“漂游”是漂浮、漂流或漂泊不定的意思, 也用来指水上“漂”的运动项目。不能和监管体系搭配, 因此排除D项。C项“游离”常用来比喻离开集体、联盟或依附的事物, 和介词于固定搭配, 游离于某种状态之外, 符合语境。

因此, 选择C选项。

23. 正确答案: B

解析第一步, 分析第一空。该空形容“美”, 根据“作品全都美得不行”以及“就像舞台上极为相似的明星一样”可知此处指的是“美”很易得且相似。C项“不胜枚举”意思是无法一一全举出来, 形容为数极多, 置于此处不符合语境, 排除C项。D项“一成不变”指一经形成, 不再改变, 侧重于不变化, 不符合语境, 排除D项。

第二步, 分析第二空。该空形容“数量”。A项“叠加”指的是使一物与另一物占有相同位置并与其共存, 形容“数量”不恰当, 排除A项。B项“堆砌”比喻写文章时使用大量华丽而无用的词语, 置于此处指的是单纯增加数量, 符合语境。

因此, 选择B选项。

24. 正确答案: A

解析第一步, 分析第一空。该空与下文的“微言大义”主语一致, 且由顿号连接, 构成并列关系, 语义相近。文中“微言大义”指精微的语言里包含着深刻的含义。A项“深入浅出”表示用浅显易懂的话把深刻的道理表达出来, 可以构成并列关系, 符合语境。而B项“大道至简”表示大道理是极其简单的; C项“通俗易懂”指广大人民群众都能懂得; D项“不温不火”形容人的性情温和或形容销售行情不火爆。均不能与“微言大义”构成并列。锁定答案为A项。

第二步, 验证第二、三空。第二空“此起彼伏”表示这里起来, 那里落下, 可以用于形容“浪潮”连续不断地起落。而第三空“少之又少”指很少很少, 与转折之前的“热潮”和下文的“很多人……没有走出……目的预设”相反相对, 符合语境。

因此, 选择A选项。

25. 正确答案: C

解析第一步, 分析文段。前三句介绍松树的不同和相同之处, D项第一空“竟”强调最终, 含有出乎意料的意思, 文中并无此意, 因此排除D选项。而“是有花的”和“不显著”构成语义上的转折, A项、B项和C项的第一、二空均可。

第二步, 再看第三空。“是”与“而不是”构成反向并列, 肯定一方、否定一方, 与文意相符。而A项“竟不是”和B项“并不是”都含有与原来所了解知道的相违背, 强调出乎意料, 文中并无此意, 排除A和B选项。

因此, 选择C选项。



26. 正确答案: C

解析第一步, 分析语境。文段第二空是突破口, 通过分析可知第二空这句话应体现“还原其形成, 则要向前找原因”之意, 排除 A, A 项“还原”与原文“还原其形成”重复; D 项“倒流”意为向上游流动, 或与正常流动方向相反, 常用搭配是“时光倒流”, 与文意不符, 排除。

第二步, 辨析词语。追溯意为探索事物发展的由来, 能体现“找原因”之意, 符合语境; 回归意为后退、返回之意, 不符语境, 排除 B 项。

因此, 选择 C 选项。

27. 正确答案: D

解析

第一步, 分析第一空。分析语境, 根据“____说好话”可知该空要体现出讨好别人之意。A 项“曲意逢迎”指违背自己的意愿, 想方设法奉承讨好别人。文中并未体现违背自己意愿, 只是单纯讨好别人, 不符合文意, 排除 A 选项。B 项“委曲求全”指勉强迁就, 以求保全。也指为了顾全大局而让步。不符合文意, 排除 B 选择。C 项“阿谀奉承”指迎合别人, 竭力向人讨好。符合文意。D 项“投其所好”指迎合别人的喜好。符合文意。

第二步, 分析第二空。分析语境, 根据“____说套话”, 说套话指的是公式化的语言, 可知该空要体现出用公式化、模式化的语言来说话, 不表达自己的想法, 目的是为了保护自己。C 项“独善其身”指只顾自己, 不管别人。不符合文意, 排除 C 选项。D 项“明哲保身”指因怕连累自己而回避原则的处事态度。可体现出保护自己之意。

第三步, 验证第三空, D 项“沽名钓誉”指骗取, 用不正当手段捞取名誉, 可体现出“说大话”之意。

因此, 选择 D 选项。

28. 正确答案: D

解析

第一步, 快速浏览文段, 重点分析尾句, 判别文段话题落脚点。文段首句介绍了我国社会主要矛盾表现为供给和需求两侧的结构都逐步发生变化, “其实”转折关联词后指出中央提出发展新常态和供给侧改革就表明已经认识到了主要矛盾的变化, 最后用“而且应该认识到”指出十九大讲的主要矛盾的转化是原有矛盾的拓展与提高, 并对新旧矛盾的两个部分的关系进行具体论述。文段话题落在社会主要矛盾转化中各个部分之间的结构关系, 接下来应围绕这一话题进行论述。

第二步, 对比选项。“机制”是指各个要素之间的结构关系和运作方式, 与尾句话题一致, 符合语境。

因此, 选择 D 选项。

29. 正确答案: D

解析第一步, 分析文段, 将选项与原文一一对应。

第二步, 辨析选项。A 项对应“在保持它的开放性的前提下顺其自然, 才有更多的机会去拥抱美好的结局”, 把不确定的语气偷换为确定的语气, 属于偷换语气, 错误。B 项对应“在互联网文化的影响下,



人们更容易和持有相似观点的人抱团取暖”“因为你搞不清自己在什么节点会茅塞顿开”, 属于偷换逻辑, 错误。C项对应“生活的不确定因素那么多……变成一个十分陌生但很开心的自己”, 不符合文意, 错误。D项结合全文理解可以得出, 正确。

因此, 选择D选项。

30. 正确答案: C

解析

第一步, 分析文段。文段开篇第一句话提到了人工智能的数据垄断问题, 而后提出解决问题的对策“理论创新”。最后两句话具体从两个方面展开论述理论创新的具体对策, 分别是“需要关注完善自身理论, 另一方面需要法律法规”和“积极探索可替代性的工具”。

第二步, 推断下文, 重点分析文段的后半部分, 即要为开头提出的问题提出具体的解决对策。观察四个选项, 只有C选项“立法问题”中的“立法”是解决问题的对策项。

因此, 选择C选项。

31. 正确答案: B

解析

第一步, 分析文段, 第1-2句是对于金钱槭的植物属性, 生长环境及自身特点的介绍。最后一句阐述观点, 强调金钱槭需要保护。文段“分—总”结构, 作者的意图是加大对金钱槭的保护。

第二步, 对比选项。B项符合文段意图。

因此, 选择B选项。

A项: 干扰项, 文段中观点是强调金钱槭需要保护, “像大熊猫一样”做了状语, 并不是文段重点, 所以排除。C项和D项: 和作者观点无关, 因此排除。

32. 正确答案: C

解析

第一步, 分析文段, 将选项与原文一一对应。

第二步, 辨析选项。A选项属于无中生有项, 文段并未将猫和狗在听觉和嗅觉上进行对比。所以排除A项。B选项表述错误, 根据文段第一句阐述猫和狗睡姿不同, 第二句具体说明“动物用感觉器官来觉察周围环境变化, 并对不同的变化就产生不同的反应”可知, 猫和狗睡姿不同, 根本上是因为它们用不同的感觉器官来感知周围环境, 因此B选项错误。结合文段后半部分, 可以对应C选项。D选项“进入人类家庭后不需要时刻保持警觉”在文段中没有体现, 是无中生有项。

因此, 选择C选项。

33 正确答案: B

解析第一步, 分析文段。文段首句引出星团, 星团被认为不能形成新的恒星, 只是通过恒星之间的碰撞或并合使恒星显的更年轻。紧接着介绍了“蓝离散星”, 即通过碰撞或者并合形成的恒星。最后通过最新的研究发现, 提出在星团中存在一族不同寻常的蓝离散星, 这类恒星不是通过碰撞或并合形成, 而是由突然爆发形成的。文段通过话题的推进, 介绍了星团中存在一种不同寻常的蓝离散星。

第二步, 对比选项, B项是对文段重点的同义替换, 符合文段意图。



因此, 选择 B 选项。

A 项: 缺少核心话题“蓝离散星”。C 项和 D 项: 偏离文段重点, 文段不是给“蓝离散星”下定义或介绍其由来, 而是强调星团中存在一族不同寻常的蓝离散星。

34. 正确答案: C

解析第一步, 分析文段。文段先提出了垃圾填埋场会产生大量甲烷, 并且目前的回收系统仍有甲烷逃逸这样的问题, 然后针对这样的问题给出了解决对策, 即“堆肥”。随即通过“实际上”, 对现状进行阐述, 表面堆肥可行, 最后补充说明堆肥能够带来的额外好处, 即有机废弃物可以重新组合。文段结构为“分—总—分”, 文段重点在因此之后, 即可以用更绿色的方式处理, 最简单的方法就是堆肥。

第二步, 对比选项。C 选项是对文段主旨句的同义替换。

因此, 选择 C 选项。

A 项和 B 项: 为问题的表述, 非重点。D 项: 与文意相悖, 文段是说堆肥过程中的有机废弃物能够重新组合再利用, 而不是堆肥这种处理方式需要重新组合, 且 D 项为补充说明部分, 非重点。本题的“实际上”不是转折关系, 是对前文的解释说明。

35. 正确答案: C

解析第一步, 定位原文, “此”出现在最后一句, 指代的是细小的植物枝叶、娇嫩的蔬菜等不易冻死的主要原因。分析“此”的前文语境, 前文提及④“盐类和含糖溶液有很强的抗寒能力”、⑥“避免细胞内部结冰”, 都是强调抗寒、不易冻死的结果, 结果之前的内容即是原因, 故③“它们会在身体中积蓄起盐类物质和能变为糖的淀粉”、⑤“有的植物还能通过增加体内不饱和脂肪酸或抗冻蛋白等”是主要原因。

第二步, 对比选项。C 项是“此”指代的内容。

因此, 选择 C 选项。

36. 正确答案: D

解析

第一步, 分析文段。文段首句指出很多人对于甜味和吃糖感到恐惧的原因是怕发胖, 接着用“其实”表转折, 指出真正使人发胖的是食物包含的能量超出了消耗的能量, 最后指出控制发胖的办法就是要控制摄入的总热量。通过分析文段可知, 文段是“分—总”结构, 重点在尾句提出的对策, 如何控制发胖。

第二步, 对比选项。D 项是对文段对策的同义替换, 可以作为文段的标题。

因此, 选择 D 选项。

A 项: 偏离对策, 且未说明“吃糖与发胖”的关系是什么, 表述不明。B 项: “淀粉”并非文段论述的核心概念, 偏离文段重点。C 项: 表述的是原因, 偏离对策。

37. 正确答案: B

解析

第一步, 观察选项, 确定首句。对比①④⑤⑥四句话, 文段应该先论述的是疟疾, 继而引出疟原虫这个话题。①⑥话题是“疟疾”, ④⑤话题是“疟原虫”, 因此排除 C 项和 D 项。



第二步, 寻找连接句子。④是引出话题“疟原虫”, 因此内容一定是在②③⑤前面, 故再排除 A 项。答案锁定 B 选项。

第三步, 验证 B 选项, ⑥引出疟疾, ①是举例论证⑥, ④引出话题“疟原虫”, ⑤③②承接上文展开介绍, 排序合理。

因此, 选择 B 选项。

38. 正确答案: A

解析第一步, 分析文段。横线位于文段中间, 所填入的句子起承上启下作用。横线前面是给“孤独”下定义, 横线之后是“比如”引导的对策的举例论证, 那么横线所填的句子应是提出的对策。

第二步, 辨析选项。A 项符合上述语境。

因此, 选择 A 选项。

B 项: 用必要条件引出对策, 但从上文得不出改变心态是改变孤独的前提和基础。C 项: 过于绝对, 改变心态只能是改变孤独的充分条件而不是必要条件。D 项: 非对策描述, 且内容与文意不符。

39. 正确答案: D

解析第一步, 观察选项特征, 确定首句。④句引出话题“家风”和“乡风”, 并介绍了两者的关系。⑥句具体介绍建设乡风要注重家风。故④为首句, 排除 A 项和 B 项。

第二步, ④句后边为⑤和⑥, 都是在围绕“家风”和“乡风”来论述, 无法辨别。观察 C 项和 D 项, ③②①都捆绑在一起, 且都是在具体阐述好家风对乡风建设的意义。不同点在于⑤和⑥, C 项以⑥为尾句, D 项以⑤为尾句, 观察两个句子, 发现⑥句是也是具体阐述家风对乡风建设的意义, ⑤句“抓好家风传承与建设”更侧重于对前文的总结, 放于尾句, 使整个文段构成总分总的结构。

因此, 选择 D 选项。

40. 正确答案: D,

解析

第一步, 本题考查排列组合问题, 属于分步排列组合问题。

第二步, 有且只有两个年级选择 A 科技馆, 有 $C_6^2 = 15$ (种) 方案, 剩下的 4 个年级, 每个年级都有除了 A 科技馆以外的剩余 5 个科技馆可选, 有 $5^4 = 625$ (种) 方案。

第三步, 那么共有 $15 \times 625 = 9375$ (种) 方案。

因此, 选择 D 选项。

41. 正确答案: C

解析

第一步, 本题考查基础应用题, 用枚举法解题。

第二步, 根据题目描述, 列出下表:



	3月	4月	5月	6月	7月
3月批次学员剩余人数	300	270	150	0	
4月批次学员剩余人数		300	270	150	0
5月批次学员剩余人数			300	270	150
6月批次学员剩余人数				300	270
7月批次学员剩余人数					300
总剩余人数					720

同年7月2日该技校学员的总数, 包括5月批次学员剩余150名, 6月批次学员剩余学员270名, 7月批次学员剩余学员300名, 那么共有学生 $150+270+300=720$ (名)。

因此, 选择C选项。

42. 正确答案: D

解析

解法一:

第一步, 本题考查基础应用题, 用方程法解题。

第二步, 设A种饮料生产了x瓶, 则B种饮料生产了 $(100-x)$ 瓶, 根据370克添加剂恰好用完, 可列方程: $4x+3 \times (100-x)=370$, 解得 $x=70$, 即生产70瓶A种饮料, 那么生产B种饮料 $100-70=30$ (瓶)。

因此, 选择D选项。

解法二:

第一步, 本题考查基础应用题, 用假设法解题。

第二步, 假设都生产A饮料, 则需要添加剂 $100 \times 4=400$ (克), 但实际只有370克添加剂, 超出 $400-370=30$ (克), 每生产1瓶B饮料可比生产1瓶A饮料少用 $4-3=1$ (克) 添加剂, 那么生产B饮料 $\frac{30}{1}=30$ (瓶), 则生产A饮料 $100-30=70$ (瓶)。

因此, 选择D选项。

43. 正确答案: A,

解析

第一步, 本题考查基础计算问题, 用数字特性法解题。

第二步, 5盒动画卡片共有 $7+9+11+14+17=58$ (张), 喜洋洋、灰太狼图案的卡片之和比葫芦娃图案多1倍, 即是葫芦娃图案的2倍。那么喜洋洋+灰太狼+葫芦娃 $=3 \times$ 葫芦娃, 即喜洋洋+灰太狼+葫芦娃的卡片数是3的倍数, 喜洋洋+灰太狼+葫芦娃的卡片数=总数-米老鼠的卡片数, 那么总数-米老鼠的卡片数是3的倍数。

第三步, 代入选项验证, A选项, $58-7=51$, 是3的倍数; B选项, $58-9=49$, 不是3的倍数, 排除; C选项, $58-14=44$, 不是3的倍数, 排除; D选项, $58-11=47$, 不是3的倍数, 排除。只有A选项满足题意。

因此, 选择A选项。



44. 正确答案: A

解析

第一步, 本题考查基础计算问题, 用数字特性法解题。

第二步, 肉兔中有 87.5% 的毛色为黑色, 则黑毛肉兔 = $\frac{7}{8} \times$ 肉兔总数, 即肉兔总数是 8 的倍数, 同理白毛宠物兔 = $\frac{23}{100} \times$ 白毛兔总数, 即白毛兔总数是 100 的倍数。

第三步, 代入选项验证, 问白毛兔至少有多少只, 采取最值代入, 优先代入 A 选项, 若白毛肉兔有 25 只, 则肉兔有 25 除以 $(1 - \frac{7}{8}) = 200$ (只), 是 8 的倍数; 宠物兔有 $2200 - 200 = 2000$ (只), 是 100 的倍数, 满足题意。

因此, 选择 A 选项。

45. 正确答案: C

解析

第一步, 本题考查基础应用题, 用方程法解题。

第二步, 设原有卡车数量 x , 每辆卡车货物数量 y ; 10 辆卡车退出后, 卡车数量 $(x-10)$ 辆, 每辆卡车货物数量为 $(y+2)$; 同理, 返程时卡车数量 $(x-10-15)$, 每辆卡车货物数量 $(y+6)$ 。因此可列出等式 $xy = (x-10) \times (y+2) = (x-10-15) \times (y+6)$ 。

第三步, 整理可得 $2x-10y=20$ ①, $6x-25y=150$ ②, 联立解得 $x=100, y=18$ 。则每地货物量为 1800 箱, AB 两地共有 3600 箱。

因此, 选择 C 选项。

46. 正确答案: C

解析

第一步, 本题考查几何问题。

第二步, 长方形 OBDA 的两条对角线相等, 即 $AB=OD$ 。OD 是圆的半径为 6 米, 则 $AB=6$ (米)。

因此, 选择 C 选项。

47. 正确答案: D,

第一步, 本题考查特殊数列。

第二步, 每行为一组, 每组第三个数可拆分为两个数, 第一个数为前两个数的差, 后一个数为前两个数的乘积 (如 224 中 $2=6-4, 24=6 \times 4$)。则所求项百位数字为 $9-2=7$, 十位和个位数字为 $9 \times 2=18$, 即 718。

因此, 选择 D 选项。

48. 正确答案: D

解析

第一步, 本题考查几何问题, 属于平面几何类, 用方程法解题。



第二步, 设道路的宽是 x , 则整个道路的面积 $64x + 40x - x^2 = 64 \times 40 - 1377$ 。解方程可使用尾数法, 代入四个选项, 只有 13 代入后两边尾数相等。

或整理方程得 $x^2 - 104x + 1183 = 0$, 即 $(x-13)(x-91) = 0$, 解得 $x=13$ 或 $x=91$ (舍弃)。

因此, 选择 D 选项。

49. 正确答案: B

解析

第一步, 本题考查排列组合问题。

第二步, 如下图所示, 6 个正方形组成一个长方形可以分为两种情况。

①:



②:



①6 个数的排列方式有 $A_6^6 = 720$ (种), 但在一字排列中例如 123456 和 654321 这两种对称排列算一种拼法, 则需要除以 2 去重复, 则一字排列排法为 $720 \div 2 = 360$ (种)。

②当有两排时, 第一排的排列方式有 $A_3^3 = 120$ (种), 第二排的排列方式有 $A_3^3 = 6$ (种), 但同①的道理也存在重复, 因此排列方式有 $(120 \div 2) \times (6 \div 2) = 180$ (种)。

第三步, 排列方式共有 $360 + 180 = 540$ (种)。

因此, 选择 B 选项。

50. D

解析

第一步, 观察特征。

组成元素不同, 优先考虑数量类或属性类, 图形封闭性、开放性特征明显, 考虑属性类封闭性。

第二步, 根据规律进行分组。

根据图形是否存在封闭空间进行分类, 图形①②⑤是封闭图形, 图形③④⑥是开放图形, 依此规律分为两组。



因此, 选择 D 选项。

51、A

解析

第一步, 观察特征。

组成元素不同, 优先考虑数量类或属性类。每个图形均有封闭区间, 考虑数面。

第二步, 饼状图, 分析每个区间内的规律。

从右上角的扇形开始顺时针分析每个扇形面内的数字组合, 每个面内的三个数字封闭空间数依次为 2、3、2、3、2、3、2, 呈交替出现的规律, 所以左上角扇形内的数字组合封闭空间数应为 3, 只有 A 项符合。

因此, 选择 A 选项。

52、C

解析

第一步, 明确设问内容。

提问方式中间的是能由所给图形转动而成的是哪个。考生需知道转动包括旋转 (绕点转动) 和翻转 (绕线转动)。

第二步, 分析选项。

无论是旋转还是翻转, 图形的元素个数不会发生变化。原图中周圈含有 16 个 “X”、中间含有 18 个 “0”, “发票专用章” 及 “(0)” 这几类图形元素。

A 项: 将原图旋转 180° 之后得到的图形, “X” 这一图形元素的左右两边对应的高度应该一致, 由于 “X” 个数变成了 15 个, 所以导致 A 选项中 “X” 左右两侧高度不一致, 排除 A 选项;

B 项: 将原图绕横轴转动即上下翻转得到类似 B 项图形, 但 B 项错在中间 “0” 的个数变成了 17 个, 排除;

C 项: 将原图形绕竖轴转动即左右翻转得到 C 项图形, 正确;

D 项: “[]” 这个符号原图中没有, 排除。

因此, 选择 C 选项。

53、D

解析

第一步, 观察特征。

组成元素不同, 优先考虑数量类和属性类, 对称性特征较为明显, 考虑属性类对称性。

第二步, 一条式, 从左到右找规律。

题干图形都存在对称性, 且对称轴都存在纵轴对称, 故 “?” 处选一个有纵向对称轴的图形, 只有 D 项符合。

因此, 选择 D 选项。

54、A

解析



第一步, 明确设问内容。

选择所给图形的正面平视图。

第二步, 分析选项。

正面平视图是指从前向后看, 得到该立体图形的正视图。

A 项: 符合该立体图形的正视图;

B 项: D 面的位置不对, 应该在第三行的中间位置, 排除;

C 项: B 面的位置不对, 应该在左上角, 排除;

D 项: 最右侧的空白面位置不对, 应该在第三行上, 排除。

因此, 选择 A 选项。

55、C

解析

第一步, 观察特征。

本题考查多面体的立体重构。

第二步, 两段式, 第一段找规律, 第二段应用规律。

第一段, 图 2 为图 1 的展开图; 第二段应用规律, 问号处应为图 1 的展开图, 只有 C 项符合。注意: A 项开放部分上下两个面的线条均为较短线条, 而题干立体图形缺口处线条为较长线条, 故排除; B 项、D 项两图为封闭的立体图形, 与题干立体图形不符, 排除。

因此, 选择 C 选项。

56、B

解析

第一步, 观察特征。

组成元素不同, 优先考虑数量类或属性类。题干元素部分数特征明显, 优先数部分。

第二步, 一条式, 从左到右找规律。

题干图形元素部分数依次为 2、3、2、3、2、3、2、?, 则问号处应为有 3 个部分的图形, 只有 B 项符合。

因此, 选择 B 选项。

57、D

解析

第一步, 看提问方式, 本题属于选非题。

第二步, 找关键信息。

①受损的自然生态系统结构和功能在人类主动干预保护措施实施下, 逐步得到恢复;

②生态系统对人类日常生活和生产活动产生的负面影响。

第三步, 辨析选项。

A 项: 城市干道种植的大量法国梧桐, 体现了人类主动保护自然生态系统, 诱发市民过敏性鼻炎, 体现了“生态系统对人类日常生活和生产活动产生的负面影响”, 符合定义;



B项: 某地动物保护工作, 体现了人类主动保护自然生态系统, 猕猴骚扰当地居民, 体现了“生态系统对人类日常生活和生产活动产生的负面影响”, 符合定义;

C项: 禁止使用除草剂, 体现了人类主动保护自然生态系统, 农民投入更大的人力成本, 体现了“生态系统对人类日常生活和生产活动产生的负面影响”, 符合定义;

D项: 某地修建水坝改善经济状况, 修建水坝并不是主动保护自然生态系统, 没有体现“生态系统在人类主动干预保护措施实施下, 逐步得到恢复”, 不符合定义;

因此, 选择D选项。

58、B

解析

第一步, 看提问方式, 本题属于选是题。

第二步, 找关键信息。

①一旦产生某个信念, 就会努力寻找与它相符的例证;

②并无视那些不符的。

第三步, 辨析选项。

A项: 小刚认为终有一天会天降横祸, 便痴迷于买股票, 天降横祸与买股票并无关联, 没有体现①, 也没有体现②, 没有“无视那些不符的例证”, 不符合定义;

B项: 小东因为“预言家”断定的自己会遭遇车祸的信息与事实发生的情况一致, 从而更相信那位“预言家”, 体现关键信息①, 符合定义;

C项: 小黄仍认为用黄色泡坛里的泡菜烹饪鱼香肉丝会更可口, 没有努力寻找与其相符的例证, 不符合定义;

D项: 小明因为经理人告知的股票信息与事实发生的情况一致, 从而信任该经理人, 没有体现②“无视那些不符的例证”, 不符合定义。

因此, 选择B选项。

59、D

解析

第一步, 看提问方式, 本题属于选是题。

第二步, 找关键信息。

①团队成员为了满足团队和个人的发展需求;

②在分享各自经验的基础上, 通过知识和信息交流等途径提出问题、寻求反馈、进行实验、反思结果、对失误或未预期结果进行讨论;

③促进团队与个人知识或技能水平不断提高, 进而实现团队层面知识与技能相对持久变化。

第三步, 辨析选项。

A项: 举行野外拓展训练, 不属于“通过知识和信息交流等途径提出问题、寻求反馈、进行实验、反思结果、对失误或未预期结果进行讨论”, 不符合定义;

B项: 小王为了自身发展学习英语, 未体现“团队”, 不符合定义;



C项: 宿舍女生相互监督一起自习, 不属于“通过知识和信息交流等途径提出问题、寻求反馈、进行实验、反思结果、对失误或未预期结果进行讨论”, 不符合定义;

D项: 销售部为了提高整体业绩, 体现了“为了满足团队和个人的发展需求”, 推选优秀代表定期与大家分享销售经验, 属于“在分享各自经验的基础上, 通过知识和信息交流等途径提出问题、寻求反馈、进行实验、反思结果、对失误或未预期结果进行讨论”, 符合定义。

因此, 选择D选项。

60、D

解析

第一步, 看提问方式, 本题属于选是题。

第二步, 找关键信息。

- ①组织内部成员主动参与;
- ②成员之间相互领导;
- ③角色在成员之间共享, 如决策制定、共享结果、共担责任;
- ④相互影响与相互协作。

第三步, 辨析选项。

A项: 辅导员发起轮流当班长的活动, 不属于“组织内部成员主动参与”, 也未体现“相互影响与相互协作”, 不符合定义;

B项: 小王主动承担任务, 不属于“成员之间相互领导”, 也未体现“角色在成员之间共享”, 不符合定义;

C项: 将事务交由专人负责, 不属于“成员之间相互领导”, 不符合定义;

D项: 实行民主集中制, 体现了“组织内部成员主动参与”, 员工共同行使权力、承担责任、分享利益, 体现了“角色在成员之间共享, 如决策制定、共享结果、共担责任”以及“相互影响与相互协作”, 符合定义。

因此, 选择D选项

61、A

解析

第一步, 看提问方式, 本题属于选是题。

第二步, 找关键信息。

- ①以户为单位;
- ②跟随主要生产要素;
- ③离开原居住地迁往目标地的人口单向性流动。

第三步, 辨析选项。

A项: 小王夫妇举家迁往工作城市, “举家”体现了“以户为单位”, “因工作调动”体现了“跟随生产要素”, “迁往”体现了“离开原居住地迁往目标地的人口单向性流动”, 符合定义;



B 项: 春节回老家和家人团聚, 春节后返回打工城市, 是往返行动, 没有体现“单向性流动”, 也没有体现“跟随生产要素”, 不符合定义;

C 项: 老刘被女人接到澳门养老, 不属于“以户为单位”, 也没有体现“跟随生产要素”, 不符合定义;

D 项: 老张一家回乡定居一段时间, 没有体现“跟随主要生产要素”, 不符合定义。

因此, 选择 A 选项。

62、D

解析

第一步, 看提问方式, 本题属于选是题。

第二步, 找关键信息。

①顾客;

②为了有效参与到服务过程;

③主动学习与其扮演角色相关的知识和信息。

第三步, 辨析选项。

A 项: 张阿姨收看电视节目学习养生, 未体现张阿姨是“顾客”以及“服务过程”, 不符合定义;

B 项: 小刘为提高业绩自学方言, 小刘是销售者, 并非“顾客”, 不符合定义;

C 项: 小明的妈妈报名奥数班的目的是为了帮助孩子提高奥数成绩, 并非“为了有效参与到服务过程”, 不符合定义;

D 项: 小谢不认同医生的诊断, 体现了医生与小谢之间存在“服务过程”, 他上网搜了很多资料, 体现了“主动学习与其患者角色相关的知识和信息”, 符合定义。

因此, 选择 D 选项。

63、C

解析

第一步, 看提问方式, 本题属于选是题。

第二步, 找关键信息。

多定义, 考查“公众科学”, 其关键信息如下:

科学公开化与科学政策公开化必要基础上, 公众直接参与科学知识产出的过程。

第三步, 辨析选项。

A 项: 某调查公司就 5G 技术的商业前景在公共场所发放调查问卷, 调查问卷未体现“公众直接参与科学技术的产出”, 不符合定义;

B 项: 某手机公司研发部门就是否取消物理按键公开征询消费者意见, 没有体现出“公众直接参与科学技术的产出”, 不符合定义;

C 项: 某医药公司为缩短研发的抗癌新药上市周期而招募试用志愿者, 体现了“公众直接参与科学技术的产出”, 符合定义;



D项: 某医学伦理委员会就基因编辑的道德风险向科技工作者征询意见, 是就道德问题进行谈论, 不涉及科学, 不符合定义。

因此, 选择C选项。

64、C

解析

第一步, 确定题干逻辑关系。

“颜色”和“长度”是划分“头发”的不同标准, 三者属于对应关系, 并且“颜色”和“长度”都是外在的, 可以量化测量的。

第二步, 辨析选项。

A项: “品种”和“性格”是划分“狗”的不同标准, 但“性格”是内在的, 无法量化测量的, 排除;

B项: “价格”和“营养”是划分“蔬菜”的不同标准, 但“营养”是内在的, 无法量化测量的, 排除;

C项: “款式”和“尺码”是划分“衣服”的不同标准, 三者属于对应关系, 且“款式”和“尺码”都是外在的, 可以量化测量的, 与题干逻辑关系一致, 符合;

D项: “长相”和“气质”是划分“人”的不同标准, 但“气质”是内在的, “长相”和“气质”受人的主观影响, 均无法量化测量, 排除。

因此, 选择C选项。

65、B

解析

第一步, 确定题干逻辑关系。

“环境安静”是一种环境状态, 不安静的环境的体现形式是“嘈杂”, 二者属于对应关系。

第二步, 辨析选项。

A项: “疲劳”会导致“驾驶不安全”, 二者属于因果对应关系, 排除;

B项: “头脑清醒”是头脑的一种状态, “头脑不清醒”的表现形式可能是“粗心”, 二者属于对应关系, 与题干逻辑关系一致, 符合;

C项: “迟缓”会导致不高的“工作效率”, “工作效率”不是一种状态, 高效或低效才是工作的状态, 排除;

D项: “温暖”可以“抵御寒冬”, 二者属于对应关系, 但“抵御寒冬”是一种做法, 而不是一个状态, 排除。

因此, 选择B选项。

66、D

解析

第一步, 确定题干逻辑关系。



“设计”与“高楼”，“修建”与“高楼”，均属于动宾关系，而且先“设计”再“修建”，二者属于时间顺承对应关系。

第二步，辨析选项。

A项：“痛恨”与“仇敌”，“打击”与“仇敌”，均属于动宾关系，但是“痛恨”和“打击”不存在明显的时间先后顺序，排除；

B项：“热爱”与“学习”属于动宾关系，排除；

C项：“病人”与“体检”属于主谓关系，排除；

D项：“勘探”与“石油”，“开采”与“石油”，均属于动宾关系，而且先“勘探”再“开采”，二者属于时间顺承对应关系，与题干逻辑关系一致，符合。

因此，选择D选项。

67、D

解析

第一步，确定题干逻辑关系。

“观众”与“观影”属于主谓关系，“电影院”是场所，与前两者属于地点对应关系，“观众”是“电影院”中的客体。

第二步，辨析选项。

A项：“听众”听“广播”，二者属于主宾关系，“听众”与“主播”属于并列关系中的反对关系，“广播”不是场所，排除；

B项：“医生”和“病人”都是人，二者属于并列关系中的反对关系，“病人”“问诊”，二者属于主谓关系，“医生”不是场所，排除；

C项：“歌手”在“演唱会”“演唱”，“歌手”与“演唱”属于主谓关系，“演唱会”是一个场所，但是“歌手”是“演唱会”的主体，排除；

D项：“记者”在“发布会”“提问”，“记者”与“提问”属于主谓关系，且“发布会”是一个场所，“记者”是“发布会”中的客体，与题干逻辑关系一致，符合。

因此，选择D选项。

68、B

解析

第一步，确定题干逻辑关系。

“臭豆腐”是豆腐的一种，“香菇”是菇的一种，豆腐和菇都是一类食物。

第二步，辨析选项。

A项：“热干面”是面条的一种，而不是一种干面，“凉水”是水的一种，排除。

B项：“黑芝麻”是芝麻的一种，“白菜”是蔬菜的一种，芝麻和蔬菜都是一类食物，与题干逻辑关系一致，符合；

C项：“小麦”是面粉的原材料，面粉和“大米”属于并列关系，排除；

D项：“甜菜”和“苦瓜”都是蔬菜，二者属于并列关系，排除。



因此, 选择 B 选项。

【拓展】

干面指面粉。凉水有多种含义, ①生水; ②潮汕方言中指凉茶。

69、D

解析

第一步, 确定题型。

根据提问方式中的“支持”, 确定为加强论证。

第二步, 找论点和论据。

论点: “聘请”的这批乌鸦不能起到“保洁员”的作用。

论据: 无。

第三步, 辨析选项。

A 项: 不明确项。乌鸦“保洁员”导致产生更多的垃圾, 但是否能清理这些垃圾, 起到“保洁员”的作用并未提到, 不具有加强作用。

B 项: 不明确项。乌鸦“保洁员”导致人们故意扔垃圾, 但是否能清理这些垃圾, 起到“保洁员”的作用并未提到, 不具有加强作用。

C 项: 不明确项。垃圾是不被需要或无用的固体、流体物质, 树枝、小石头对于乌鸦的生存环境而言未必是垃圾, 且饲养本身所产生的垃圾是否能被乌鸦清理, 也未提到, 不具有加强作用。

D 项: 增加论据。实验属于论据, “对公园的保洁作用几乎为零”直接说明了不能起到“保洁员”的作用, 具有加强作用。

因此, 选择 D 选项。

70、B

解析

第一步, 确定题型。

题干有信息匹配特征, 确定为分析推理。

第二步, 分析条件, 进行推理。

“第 3 小组”出现频次较高, 考虑使用最大信息法。

根据“甲和属于第 3 小组的那位摘得的数量不一样”, 可知: (1) 甲不属于第 3 小组;

根据“第 3 小组的那位比乙摘得多”, 可知: (2) 乙不属于第 3 小组, 且第 3 组 > 乙;

综合 (1) (2) 可得: 丙属于第 3 小组。

根据“丙 (第 3 小组) 比第 1 小组的那位摘得少”, 可得: (3) 第 1 组 > 丙 (第 3 组);

综合 (2) (3) 可得: 第 1 组 > 第 3 组 (丙) > 乙;

故可得: 甲是第 1 组, 乙是第 2 组, 且三人从多到少的顺序为: 甲、丙、乙。

因此, 选择 B 选项。

71、C

解析



第一步, 确定题型。

根据提问方式中的“不能支持”, 确定为加强论证选非题。

第二步, 找论点和论据。

论点: 人工智能对人类造成威胁, 并可能最终战胜人。

论据: 人工智能似乎必然会与人产生激烈的竞争, 随后形成事实上出乎人的意志的结果。

第三步, 辨析选项。

A 项: 增加论据。该项提到人工智能可发展出与人类“冲突的自我意志”, 故会对人类造成威胁, 具有加强作用。

B 项: 增加论据。该项提到人工智能可“摆脱人类控制”, 故会对人类造成威胁, 具有加强作用。

C 项: 增加反向论据。该项提到人工智能可代替人类从事危险的工作, 说明对人类有帮助, 削弱了论点“对人类造成威胁”, 具有削弱作用。

D 项: 增加论据。该项提到人工智能相对于人类智能“具有优势”, 故可能最终战胜人, 具有加强作用。

因此, 选择 C 选项。

【拓展】参照原文《人工智能是一把双刃剑》

72、D

解析

第一步, 确定题型。

根据提问方式中的“前提”, 确定为加强论证。

第二步, 找论点和论据。

论点: 林枫是志愿者。

论据: 如果张楠和林枫不是志愿者, 那么杨梅是志愿者。可以翻译为: 张楠且林枫→杨梅。

第三步, 辨析选项。

A 项: 不明确项。张楠是志愿者是对论据“且关系”的否定, 否定“且关系”一支, 不能得到另一支为真, 因此不能得到林枫是不是志愿者, 不具有加强作用。

B 项: 不明确项。杨梅不是志愿者是对论据的否后, 根据“否后必否前”, 可得: 杨梅→张楠或林枫, 能得到张楠是志愿者或林枫是志愿者, 但是不确定林枫一定是志愿者, 不具有加强作用。

C 项: 不明确项。张楠是志愿者是对论据的否前, 根据“否前得不出必然结论”, 不能得到林枫是志愿者; 同时杨梅是志愿者是对论据的肯后, 根据“肯后得不出必然结论”, 得不出林枫是志愿者, 不具有加强作用。

D 项: 建立联系。杨梅不是志愿者是对论据的否后, 根据“否后必否前”, 可得: 张楠或林枫是志愿者, 同时张楠不是志愿者, 根据“否定肯定式”, 否定“或关系”的一支, 必然得到另一支, 可得林枫一定是志愿者, 具有加强作用。

因此, 选择 D 选项。

73、D



解析

第一步, 确定题型。

根据提问方式中的“支持”, 确定为加强论证。

第二步, 找论点和论据。

论点: 随着网络技术、数字技术的发展, 人们的阅读方式、阅读途径更加多元化, 并且不断深化与拓展, 呈现出数字阅读的新态势。

论据: 阅读本是一种极具个人风格的私事, 但在社交媒体环境中, 数字阅读成为一件能够与他人共享、交流的事情; 数字阅读的行为习惯、推广方式及平台等也都在发生变化。

第三步, 辨析选项。

A 项: 无关选项。“统计显示, 去年实体书店的销量下降了 30%左右”, 不能推出数字阅读的增加。故与论点“随着网络技术、数字技术的发展, 呈现出数字阅读的新态势”论题不一致, 排除。

B 项: 无关选项。“数据显示, 去年电子书的购买率下降了 10%左右”, 电子书购买率的下降, 不能推出数字阅读的增加或减少, 因为数字阅读不仅限于电子书, 而且网络上也有许多免费的电子书。故与论点“随着网络技术、数字技术的发展, 呈现出数字阅读的新态势”论题不一致, 排除。

C 项: 无关选项。“数字阅读的“智能”元素改变了传统阅读的本质”, 题干中的本质指的是“阅读本是一种极具个人风格的私事”, 就算改变了传统阅读的本质, 但是朝何种方向改变的, 并未说明。

故与论点中讨论的“呈现数字阅读新态势”论题不一致, 排除。

D 项: 增加论据。“社交媒体本身能为数字阅读找到更直接的分享对象”, 加强论据, 肯定了论据“数字阅读成为一件能够与他人共享、交流的事情”, 具有加强作用。

因此, 选择 D 选项。

74、C

解析

第一步, 确定题型。

根据提问方式中的“质疑”, 确定为削弱论证。

第二步, 找论点和论据。

论点: “体型大”和“寿命长”是动物容易罹患癌症最合理的两个答案。

论据: “体型大”意味着组成身体的细胞数量更多, 而“寿命长”意味着需要更多的新生细胞来更新换代; 细胞越多, 细胞分裂随机突变的几率就越高。

第三步, 辨析选项。

A 项: 无关选项。题干讨论的是“体型大”、“寿命长”的动物, 小白鼠不符合该种特征, 论题不一致, 排除。

B 项: 无关选项。选项讨论的是吸烟对于患癌风险的影响, 论题不一致, 排除。

C 项: 增加反向论据。举“体型大”、“寿命长”而不易患癌的象的反例来进行削弱, 具有削弱作用。

D 项: 无关选项。选项没有对两种动物的“体型”、“寿命”进行说明, 论题不一致, 排除。



因此, 选择 C 选项。

75、B

解析

第一步, 本题考查简单比较中的和差比较。

第二步, 定位表格材料。

第三步, 由表格材料可知, 甲、乙、丙、丁第一季度的销售额分别为 200 万元、50 万元、60 万元、160 万元, 第二季度的销售额分别为 235 万元、60 万元、70 万元、120 万元。第一季度销售总额为 $200+50+60+160=470$, 第二季度销售总额为 $235+60+70+120=485$, 则第二季度销售额有所增加。一、二两个季度的销售量分别为 10 万公斤、4 万公斤、4 万公斤、5 万公斤和 8 万公斤、6 万公斤、3.5 万公斤、4.8 万公斤, 第一季度销售量为 $10+4+4+5=23$, 第二季度销售量为 $8+6+3.5+4.8=22.3$, 则第二季度销售量有所降低。

因此, 选择 B 选项。

76、B

解析

第一步, 本题考查增长率计算比较。

第二步, 定位表格材料“销售额”所在列。

第三步, 根据 $\text{增长率} = (\text{现期量} - \text{基期量}) / \text{基期量}$, 甲的增长率为 $\frac{235 - 200}{200} = \frac{35}{200} = 17.5\%$, 乙的增长率为 $\frac{60 - 50}{50} = 20\%$, 丙的增长率为 $\frac{70 - 60}{60} = \frac{1}{6} \approx 16.7\%$, 丁的增长率为负数, 排除丁, 则增长率最大的为乙。

因此, 选择 B 选项。

77、A

解析

第一步, 本题考查平均数增长率计算。

第二步, 定位表格材料。



第三步, 根据 $\text{销售价格} = \text{销售额} / \text{销售量}$, $\text{增长率} = \text{现期量} / \text{基期量} - 1$, 比较增长率大小可使用倍数替代, 即比较 $\text{现期量} / \text{基期量}$ 。对数据进行截位舍相同处理, 四种鱼类第二季度的销售价格与第一季

度的倍数关系分别为, 甲: $\frac{235}{8} \div \frac{200}{10} = \frac{235}{160} \approx 1.5$; 乙: $\frac{60}{6} \div \frac{50}{4} < 1$; 丙: $\frac{70}{35} \div \frac{60}{40} = \frac{4}{3} \approx 1.33$; 丁: $\frac{120}{48} \div \frac{160}{50} < 1$, 则增速最大的为甲。

因此, 选择 A 选项。

78、C

解析

第一步, 本题考查综合分析问题, 且需选出正确的一项。

第二步, A 选项, 现期平均数计算, 定位表格材料“乙”所在行。乙第二季度的销售价格 ($\frac{60}{60000}$) < 第一季度的销售价格 ($\frac{50}{40000}$), 价格并非上涨, 错误。

B 选项, 简单读数比较, 定位表格材料“丙”所在行。丙第二季度销售量 (35000) < 第一季销售量 (40000), 销售量并非上涨, 错误。

C 选项, 简单读数比较, 定位表格材料“乙”所在列。由 A 选项可知, 乙第二季度销售价格下降。乙第二季度销售量 (60000) > 第一季度销售量 (40000), 销售量上涨, 二者共同作用, 使乙销售额增加, 正确。

D 选项, 简单读数比较, 定位表格材料“丙”所在行。由 B 选项可知, 丙销售量没有增加, 错误。因此, 选择 C 选项。

79、A

解析

第一步, 本题考查综合分析问题, 且需选出正确的一项。

第二步, A 选项, 两期平均数比较, 定位表格材料。根据表格数据计算可知, 销售总额增加, 增长率为正数, 销售总量减少, 增长率为负数, 正数 负数, 可得其单位价格上涨, 正确。

B 选项, 简单读数比较, 定位表格材料。根据材料并不能推出甲销量下滑的主要原因是什么, 价格上涨只是可能的原因之一, 错误。

C 选项, 平均数比较, 定位表格材料。根据 $\text{销售价格} = \text{销售额} / \text{销售量}$, 对数据进行截位舍相同处理, 乙第二季度的价格分别为 ($\frac{60}{6} = 10$) < 第一季度 ($\frac{50}{4} = 12.5$), 为降价; 丁第二季度的价格分别为 ($\frac{120}{48} = 2.5$) < 第一季度 ($\frac{160}{50} = 3.2$), 为降价, 则乙并不是唯一降价的, 错误。

D 选项, 定位表格材料, 原文中并没有提及鱼类产品的利润值, 只给出了销售额, 所以无法推出利润相关信息, 错误。

因此, 选择 A 选项。

80、A



解析

第一步, 本题考查比重比较。

第二步, 定位表格材料中四个车间的“工人数”四列。

第三步, 根据 $\text{比重} = \frac{\text{部分量}}{\text{整体量}}$, 四个车间的工人数均为 100 (高级工+中级工+初级工), 整体量一致, 只比较部分量 (中级工人数) 即可, 四个车间分别为: 甲 50 人、乙 40 人、丙 45 人、丁 25 人。

故甲车间中级工的占比最大。

因此, 选择 A 选项。

81、B

解析

第一步, 本题考查现期平均数比较。

第二步, 定位表格“高级工”一行。

第三步, 根据文字材料中“以人均产量评价劳动生产率”可知 $\text{劳动生产率} = \frac{\text{产量}}{\text{工人数}}$, 则可得各车

间高级工的劳动生产率分别为: 甲车间 $\frac{5600}{20} = 280$; 乙车间 $\frac{6000}{20} = 300$; 丙车间 $\frac{3600}{15} = 240$; 丁车间 $\frac{6000}{25} = 240$; 乙的数值最大。

因此, 选择 B 选项。

82、B

解析

第一步, 本题考查现期平均数比较。

第二步, 定位表格材料。

第三步, 根据 $\text{劳动生产率} = \frac{\text{产量}}{\text{工人数}}$, 四个车间的工人数均为 100 (高级+中级+初级), 工人数一致, 只比较产量即可, 加法计算考虑截位舍相同。甲车间产量为 $56+125+60=241$, 乙车间为 $60+104+88=252$, 丙车间为 $36+99+72=207$, 丁车间为 $60+50+95=205$, 故乙>甲>丙>丁。

因此, 选择 B 选项。

83、D

解析

第一步, 本题考查现期比值计算。

第二步, 定位表格材料“高级工”与“初级工”所在行。



第三步, 根据文字材料中“以人均产量评价劳动生产率”可知劳动生产率=产量/工人数, 可得各车间高

级工的劳动生产率分别为: 甲车间 $\frac{5600}{20} = 280$ 、乙车间 $\frac{6000}{20} = 300$ 、丙车间 $\frac{3600}{15} = 240$ 、丁车间 $\frac{6000}{25} = 240$;

各车间初级工的劳动生产率分别为: 甲车间 $\frac{6000}{30} = 200$ 、乙车间 $\frac{8800}{40} = 220$ 、丙车间 $\frac{7200}{40} = 180$ 、丁车间 $\frac{9500}{50} = 190$;

将各车间的高级工劳动生产率减去初级工劳动生产率得到各车间的差值分别为: 甲车间 $280 - 200 = 80$ 、乙车间 $300 - 220 = 80$ 、丙车间 $240 - 180 = 60$ 、丁车间 $240 - 190 = 50$; 丁车间差值最小。

因此, 选择 D 选项。

84、C

解析

第一步, 本题考查综合分析问题, 且需选出正确的一项。

第二步, A 选项, 比重比较, 定位表格材料, 加法计算考虑截位舍相同, 则对各车间产量均舍后两位计算。甲车间总量为 $56 + 125 + 60 = 241$, 乙车间为 $60 + 104 + 88 = 252$, 丙车间为 $36 + 99 + 72 = 207$, 丁车间为 $60 + 50 + 95 = 205$, 整体量均为企业总产量, 则部分量最大时比重最大, 即乙车间比重最大, 错误。

B 选项, 现期平均数比较, 定位表格材料, 根据劳动生产率=人均产量=产量/工人数可得, 高级工劳动生

产率为 $\frac{5600 + 6000 + 3600 + 6000}{20 + 20 + 15 + 25} = \frac{21200}{80} = 265$, 中级工劳动生产率为 $\frac{12500 + 10400 + 9900 + 5000}{50 + 40 + 45 + 25} = \frac{37800}{160} \approx 236$, 高级工 > 中级工, 错误。

C 选项, 现期平均数比较, 定位表格材料, 由 A 选项可知, 甲、乙、丙、丁总产量分别为 24100、25200、20700、20500, 且四个车间人数均为 100 人 (高级工 + 中级工 + 初级工), 丁车间总产量最低即劳动生产率最低, 最应当加强, 正确。

D 选项, 由 C 选项可知, 丁车间的劳动生产率低于丙车间, 若丙车间低于企业平均值, 则丁车间必然低于企业平均值, 错误。

因此, 选择 C 选项。

85、B

解析

第一步, 本题考查基期量的计算。

第二步, 定位文字材料第一段, “2016 年全国供用水总量 6040.2 亿立方米, 较上年减少 63.0 亿立方米”。第三步, 根据基期量=现期量+减少量, 代入数据得 2015 年全国供应用水总量为 $6040.2 + 63.0 = 6103.2$ (亿立方米)。

因此, 选择 B 选项。

【拓展】本题材料与选项精确度一致, 加法计算, 可以看尾数, 答案的后两位应为 $0.2 + 3.0 = 3.2$, 以 3.2 结尾的仅有 B 选项。

86、C

解析



第一步, 本题考查比重比较。

第二步, 定位文字材料第二段, “2016年, 全国生活用水 821.6 亿立方米, 占用水总量的 13.6%; 工业用水 1308.0 亿立方米, 占用水总量的 21.6%; 农业用水 3768.0 亿立方米, 占用水总量的 62.4%; 人工生态环境补水 142.6 亿立方米, 占用水总量的 2.4%。”

第三步, 直接读数可知农业用水的占比 (62.4%) 最大。

因此, 选择 C 选项。

87、B

解析

第一步, 本题考查直接读数。

第二步, 定位文字材料第一段 “2016 年全国供用水总量为 6040.2 亿立方米, 较上年减少 63 亿立方米”; 和文字材料第二段 “与 2015 年相比, 农业用水量减少 84.2 亿立方米, 生活用水量及人工生态环境补水量分别增加 28.1 亿立方米和 19.9 亿立方米”。

第三步, 生活用水和人工生态环境补水的用水量均比去年增加, 可以排除 A、C、D 选项。

因此, 选择 B 选项。

【拓展】根据材料可以发现农业用水量减少, 根据注释部分 “供用水总量=用水总量=生活用水+工业用水+农业用水+人工生态环境补水”, 则工业用水量的增长量 = $-63 - (-84.2 + 28.1 + 19.9) < 0$, 因此工业用水量比上年减少。所以用水量减少的两大领域是工业用水和农业用水。因此, 选择 B 选项。

88、A

解析

第一步, 本题考查基期倍数计算。

第二步, 定位文字材料第三段 “2016 年全国万元国内生产总值 (当年价) 用水量 81 立方米, 万元工业增加值 (当年价) 用水量 52.8 立方米”; “按可比价计算, 万元国内生产总值用水量和万元工业增加值用水量分别比 2015 年下降 7.2% 和 7.6%”。

第三步, 根据基期比重计算公式 $\frac{A}{B} \times \frac{1+b}{1+a}$, 代入数据可得: $\frac{81}{52.8} \times \frac{1-7.6\%}{1-7.2\%}$; 利用算一半原则,

左半部分为 1.53, 右半部分略小于 1, 可知答案应略小于 1.53。分析选项可知 A、B、C、D 分别为 1.5、1.3、1.67、2, 仅 A 选项符合略小于 1.53。

因此, 选择 A 选项。

89、D

解析

第一步, 本题考查综合分析问题, 且需选出正确的一项。

第二步, A 选项, 读数比较, 定位文字材料第二段, 只给出农业用水量与工业用水量, 并未提及农业用水产值与工业用水产值, 无法判断, 错误。

B 选项, 读数比较, 定位文字材料, 并未提及三大产业水资源利用率, 无法判断, 错误。



C 选项, 和差比较, 定位文字材料第一段, “2016 年, 地表水源供水量减少 57.1 亿立方米, 地下水源供水量减少 12.2 亿立方米”, 地表水源减少更多, 即地表水减少是供水减少的主要原因, 错误。

D 选项, 两期比重比较, 定位文字材料第一段, “2016 年, 全国供用水总量较上年减少 63.0 亿立方米……其他水源供水量增加 6.3 亿立方米”, 根据两期比重比较口诀“部分的增长率大于整体的增长率, 比重上升; 反之, 比重下降”可知: 部分为其他水源供水量, 其增长率为正; 整体为供水总量, 其增长率为负, 即 $a > b$, 比重高于去年, 正确。

因此, 选择 D 选项。